

PRIMARY SCHOOL ANNUAL EXAMINATIONS 2003
Educational Assessment Unit - Education Division

YEAR 6

SOCIAL STUDIES

TIME: 1 Hour

Name: _____ Class: _____

A. Aqta` sing taht il-kelma t-tajba (10 marki)

1. L-edukazzjoni tagħna tibda mill-(ħbieb, iskola, knisja, familja).
2. Għandna naħdmu biex ingibu l-(għlied, għaqda, pika, għira).
3. Wiehed mill-kontinenti jismu (Spanja, Sardenja, Awstralja).
4. Hemm (sitt, ħames, erba`, disa`) kontinenti.
5. L-Uffiċċju Meteoroloġiku jinsab f' (Ħ`Attard, Ħad-Dingli, Ħal-Luqa, Ħaż-Żebbuġ).
6. Il-bidwi jkabbar (patata, ħut, ħadid, xewk) fl-għelieqi tiegħu.
7. Jien naqdi d-dmirijiet tiegħi billi (nirrispondi, ngħajjar, nirrispetta, mdejjaq) lill-ġenituri tiegħi.
8. In-nanna toqgħod ftit 'il bogħod mid-dar tiegħi. Immur għandha bil-(ħelikopter, karozza, ajruplan, vapur).
9. L-ewwel nies li ġew Malta ġew minn (Ċipru, Franza, Spanja, Sqallija).
10. Raħal żgħir f' Malta huwa (Marsaxlokk, Ix-Xlendi, Tas-Sliema, Victoria).

B. Imla l-vojt bil-kliem mogħti: (5 marki)

art poplu fabbrika Mgarr passiġġieri

1. Ħaddiema jaħdmu oġġetti li għandna bżonn fil-_____.
2. Nies li jivvjaġġaw u jużaw xi mezz ta` trasport jissejġu _____.
3. Inħawi agrikoli f' Malta u Għawdex huma: Wied il-Pwales, Wied il-Lunzjata, Burmarrad u _____.
4. Kontinent huwa biċċa _____ kbira ħafna.
5. Il-membri tal-parlament huma r-rappreżentanti tal-_____.

Ċ. Aqta` l-kelma li ma taqbilx. (5 marki)

1. **Għar Dalam** : iljunfanti, ċriev, baqar, orsijiet.
2. **L-Assedju l-Kbir** : Kavallieri, Ċinizi, Torok, Insara.
3. **Temp** : blat, bard, sħana, xita.
4. **Blat** : franka, żonqor, tafli, baħar.
5. **Gzejjer** : Korsika, Franza, Malta, Sqallija.

D. Aqta` sinjal taht it-TNEJN li jaqblu. (10 marki)

1. Żewġ reliġjonijiet oħra barra dik Kattolika Rumana huma : l-Islam, il-politika, id-demokrazija, l-Buddiżmu, id-duttrina.
2. Nuru rispett lejn l-anzjani meta : nħobbuhom, nżuruhom, ngħajruhom, ngħaġġluhom, ninkwitawhom.
3. It-twemmin reliġjuż jgħallem lis-soċjeta` valuri ċiviċi bħal : vandaliżmu, naħsbu fl-oħrajn, ġlied, għira, ġustizzja.
4. Inkunu tolleranti ma' nies li jemmnu f'reliġjonijiet oħra meta : nirrispettawhom, ngħajruhom, nwarrbuhom, naċċettawhom.
5. Aħna nuru t-twemmin reliġjuż tagħna meta : (nitolbu, ngħumu, niġru, nifirħu, nitbandlu) flimkien.

E. Min jien jew min aħna :

1. Aħna gżejjer ħdejn xulxin fil-Baħar Mediterran. Aħna nagħmlu parti minn Spanja. Fis-sajf iżuruna ħafna turisti. Flimkien isejħulna l-gżejjer = _____
2. Fija hemm tempji pre-istoriċi. Jien għandi l-George Cross fuq il-bandiera = _____
3. Jiena l-akbar gżira fil-Baħar Mediterran. Jien qiegħda ħdejn Malta. Fuqi ssib vulkan attiv ħafna = _____
4. Jiena passaġġ dejjaq bejn Spanja u l-Marokk. Il-vapuri jgħaddu minni biex jidħlu mill-Oċean Atlantiku għall- Mediterran = _____
5. Jien tal-ħġieġ. Fija hemm il-merkurju. Dan jitla` u jinzel skond kemm tkun sħana jew kesħa = _____

(5 marki)

F. Aqra sew u wieġeb.

1. Din is-sena fil-klassi tiegħek ġew żewġ itfal ġodda. Dawn huma żewġ refuġjati, tifel u tifla mis-Somalja. Ikteb paragrafu ta` ħames sentenzi biex turi kif tista` tkun aktar ħabib ta` dawn it-tfal.

2. Fil-familja ta` Ġuži, il-ġenituri jippruvaw iżommu l-għaqda fil-familja. Kieku kont wieħed mill-membri ta` din il-familja, kif kont tgħin biex iżzomm din l-għaqda ?

(10 marki)

Ġ. Ȧares sew lejn l-istampa.



1. Semmi żewġ affarijiet mill-istampa li juru li huwa żmien antik.


2. Dawn in-nies kienu jgħixu fi żmien (modern, ir-Rumani, Pre-istoriku, il-Francġiżi).

3. Dawn in-nies bnew (il-Kattidral, Haġar Qim, il-Palazz Verdala, l-Belt Valletta).
4. Kieku kont tifel jew tifla tgħix f'dak iż-żmien, il-ħajja kienet tkun aktar sabiħa? Għaliex ?

5. Il-ħajja f'dak iż-żmien kienet tkun aktar diffiċli għax _____

(10 marki)

G 1.



IS-SAFFI TAL-BLAT F'MALTA

Ħares sew lejn l-istampa li turi s-saffi tal-blat Malti kif qegħdin taħt xulxin. **Fil-vojt, ikteb l-isem ta` kull saff f`postu fl-istampa.**

Dawn huma l-ismijiet tas-saffi : ġebbla safra, żonqor, tafli, qawwi ta` fuq, franka.

2. Imla l-vojt bil-kelma li toqgħod.

- a) Il-franka hija importanti għax _____ biha.
- b) L-ilma tax-xita jingabar fuq is-saff _____.
- c) _____ u r-ramel isiru miż-żonqor.

d) Il-_____ isir mill-blat tal-qawwi.

e) Mit-tafal isir il-_____.

(5 + 5=10marki)

Għ. Aqra din is-silta u imla l-vojt bil-kliem li joqogħdu.

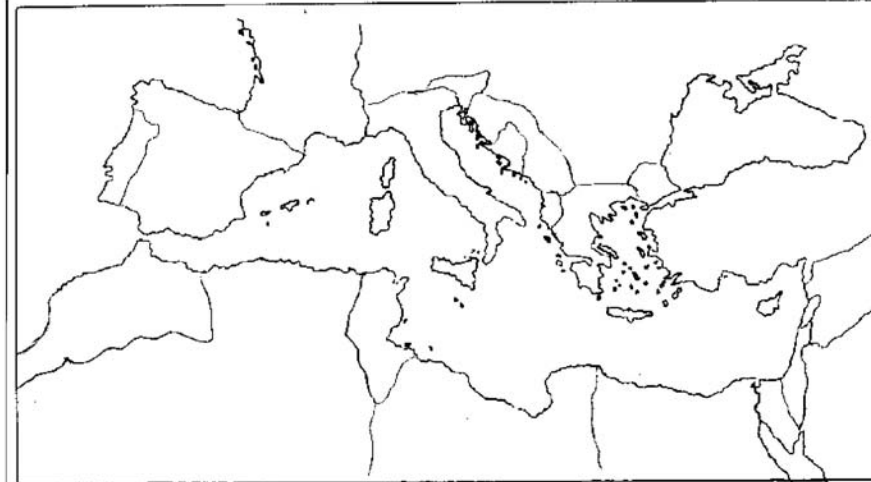


WAQT L-ASSEDJU L-KBIR

La Vallette kien il-_____ ta` l-Ordni ta` San Ġwann matul l-_____. Huwa ħeles ħafna mill-prigunieri biex dawn ikunu jistgħu jgħinu lill-_____ fl-Assedju. Is-Sultan Tork _____ poġġa l-flotta _____ f'idejn Piali Paxa`. It-truppi Torok kienu taħt il-ġeneral _____. Il-furban Tork _____ miet waqt l-attakk fuq Sant Iermu. Madwar elf u ħames mitt nistrani u xi tmint elef Tork mietu matul il-ġlied fuq din il-_____. Aħna niċċelebraw ir-rebħa tal-Kavallieri fuq it-Torok fil-festa tal-_____. Wara l-Assedju l-Kbir il-Birgu beda jissejjaħ _____ jgħifieri Belt Rebbieħa. (10 marki)

H.

IL-BAĦAR MEDITERRAN



Immaġina li inti għandek iċ-ċans li tmur dawra bil-vapur fil-Mediterran. Il-vapur se jitlaq minn Malta. Il-kaptan staqsiek int fejn tixtieq li tmur. Agħżel **żewġ gżejjer** fil-Mediterran u **tliet pajjiżi** li jmissu mal-Mediterran.

1. i) Niżżel l-isem ta' **żewġ gżejjer** fil-Mediterran f' dan il-vojt :

a b

ii) Ikteb l-ittra **a** u l-ittra **b** fuq il-mappa biex turi fejn qegħdin dawn il-gżejjer fil-mappa.

2. i) Niżżel l-isem ta' **tliet pajjiżi** li jmissu mal-Mediterran:

1 2 3

ii) Ikteb in-numri fuq il-mappa biex turi fejn qegħdin dawn il-pajjiżi:

(10 marki)

Ħ. Aghżel waħda minn dawn u ikteb għaxar (10) sentenzi fuqha.

1 Immaġina li inti gwida li qed tmexxi grupp turisti madwar il-Belt Valletta. **Ikteb dwar xi bini STORIKU** li jkun ta' interess għal dawn it-turisti.



JEW

2 Inti mort iżżur il-bini fejn jiltaqa' l-Parlament **Ikteb dwar x'inhu Parlament u kif il-Parlament Malti qed jgħin lilna bħala ċittadini ta' Malta u Għawdex**



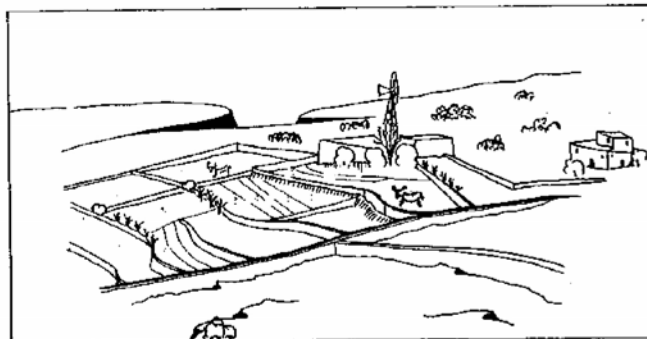
JEW

3. Il-karozzi għandhom ħafna vantaġġi għalina imma fl-istess ħin jista' jkollhom xi żvantaġġi wkoll. **Ikteb dwar xi vantaġġi u xi żvantaġġi.**



JEW

4. Immaġina li inti bidwi u trid tagħżel bejn trabbi l-bhejjem jew taħdem ir-raba'. **Għid x'kont tagħżel u kif tista' tagħmel dan.**



(15-il marka)

