

# EŻAMIJIET ANNWALI TA' L-ISKOLA PRIMARJA 2009

Taqsimta ta' l-Assessjar Edukattiv – Diviżjoni ta' l-Edukazzjoni

IS-SITT SENA

STUDJI SOĊJALI

HIN : Siegħa

Isem : \_\_\_\_\_

Klassi : \_\_\_\_\_

**A: KOMUNIKAZZJONI** – *fl-istampa qed tara torri fil-Għargħur; l-istazzjonijiet tar-radju u t-televiżjoni jxandru l-programmi tagħhom permezz ta' dan it-torri li qiegħed f' post għoli ħafna. Dan it-torri jservi bħala mezz ta' komunikazzjoni bejnietna.*



**Ikteb il-mezz ta' komunikazzjoni li nista' nuża:**

1. Nixtieq inkun naf l-aħbarijiet tal-bieraħ.

\_\_\_\_\_

(1)

2. Nixtieq inkellem liz-ziju li qiegħed l-Awstralja.

\_\_\_\_\_ (1)

3. Nixtieq nibgħat ritratt tal-magħmudija ta' ħija lill-penfrend li joqgħod l-Italja.

\_\_\_\_\_ (1)

4. Nixtieq niftiehem ma' sieħbi fejn se nistennew lil xulxin illejja. \_\_\_\_\_ (1)

5. Nixtieq inwassel ilment dwar periklu li hemm fit-triq fejn noqgħod.

\_\_\_\_\_ (1)

6. Nixtieq nuri l-opinjoni tiegħi fuq ligi li qiegħda tigi diskussa fil-Parlament Malti

bħalissa. \_\_\_\_\_ (1)

7. Nixtieq inħajjar iktar nies jużaw il-karozzi tal-linja biex innaqqsu t-tniġġis tal-arja

mill-karozzi private. \_\_\_\_\_ (1)

8. Nixtieq inħajjar lis-surmast tal-iskola biex iħallina mmorru bit- *tracksuit* meta

jkollna l-P.E. l-iskola. \_\_\_\_\_ (1)

9. Nixtieq nipprotesta għax xi għelieqi fit-tarf tar-raħal fejn noqgħod se jingħataw

għall-bini. \_\_\_\_\_ (1)

10. Nixtieq infittex dwar it-Tempji Megalitici tal-Ggantija għal proġett li għandna l-iskola. \_\_\_\_\_ (1)

(10 marki)

**B:** Liema minn dawn li ġejjin jistgħu jissejhu parti mill-**MASS MEDIA**? *Għandek issib sitta b'kollox.* Iktibhom fil-kaxxi.

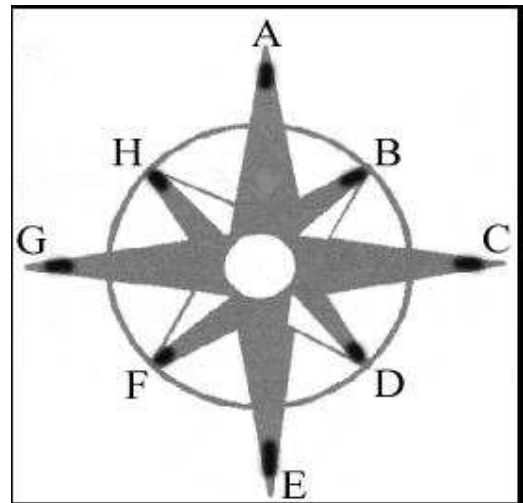
{ludo, televixin, futbol, skrivanija, hike, *Internet*, gazzetti, *magazines*, radju, tal-linja, gazzetti *on-line*; xarabank, roti, ġonna pubblici}

1.	2.	3.
4.	5.	6.

(6 marki)

**Ċ: Wieġeb skond l-istampa:**

{**Id-direzzjonijiet minn fejn jista' jonfoħ ir-riħ huma:** *Punent, Xlokk, Lvant, Grigal, Majjistral, Tramuntana, Lbiċ, Nofsinhar*}



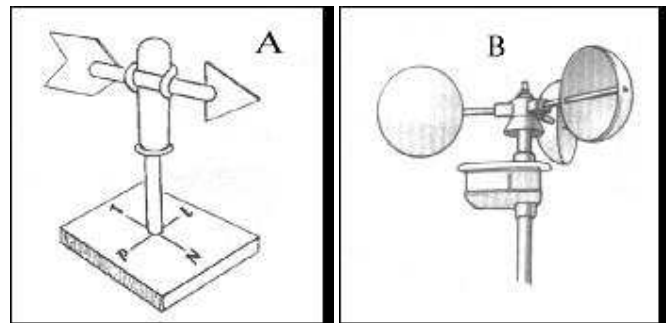
1. Riħ li jonfoħ minn direzzjoni A nsejnhulu Riħ \_\_\_\_\_ (1)

2. Fl-istampa, ir-riħ li jonfoħ mid-direzzjoni tal-Lvant huwa mmarkat bl-ittra \_\_\_\_\_ (1)

3. Ir-riħ li jonfoħ mill-Majjistral normalment ikun (*kiesah, sħun*). (1)

4. Riħ li jonfoħ mid-direzzjoni F insejnhulu Riħ \_\_\_\_\_ (1)

5. Riħ Nofsinhar jonfoħ mid-direzzjoni fejn hemm l-ittra \_\_\_\_\_ (1)



6. X'jissejjaħ l-istrument ta' stampa A? \_\_\_\_\_ (1)

7. Għalfejn jintuza l-istrument ta' stampa A? \_\_\_\_\_ (1)

8. X'jissejjaħ l-istrument ta' stampa B? \_\_\_\_\_ (1)

9. Għalfejn jintuza l-istrument ta' stampa B? \_\_\_\_\_ (1)

(total Eżerċizzju Ċ = 9 marki)

## D: Wieġeb:

1. Liema saff mill-istampa għandu l-iktar żmien?

\_\_\_\_\_ (1)

2. Minn liema saff nistgħu nagħmlu l-fuħħar?

\_\_\_\_\_ (1)

3. Għaliex nużaw il-FRANKA biex nibnu d-djar tagħna f'Malta? \_\_\_\_\_

\_\_\_\_\_ (1)

4. Il-konkos huwa taħlita ta' siment, ramel u żrar. Minn liema saff nieħdu r-ramel u ż-żrar?

\_\_\_\_\_ (1)

5. Fejn ifforma l-blat ta' Malta? (*Agħzel risposta minn dawn li ġejjin u iktibha fil-vojt*): (a) fl-Ewropa (b) fl-Atlantiku (c) fil-baħar (d) fuq il-muntanji.

\_\_\_\_\_ (1)

6. Għaliex il-blat ta' Malta jissejjaħ blat **sedimentarju**? (*Agħzel risposta minn dawn li ġejjin u iktibha fil-vojt*)

(a) għax minnu nagħmlu s-siment biex nużawh biex insaqqu d-djar Maltin;

(b) għax minnu nieħdu ż-żrar u r-ramel li wara nħalltuh mas-siment biex nagħmlu l-konkrit;

(c) għax ifforma minn materjal bħal frak, ramel, ċaġħak, ħama u tajn li ngarr mix-xmajjar, tpogġa fil-qiegħ tal-baħar u tela' fil-wiċċ tal-art bit-terremoti.

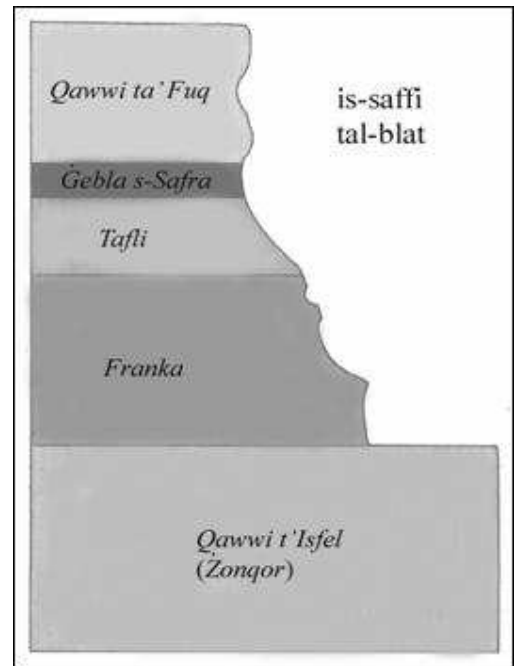
\_\_\_\_\_ (1)

7. Jekk tħaffer in-naħat ta' Ħad-Dingli, liema saff taħseb li ssib fil-wiċċ?

\_\_\_\_\_ (1)

8. Jekk tħaffer in-naħat tas-Sigġiewi u l-Imqabba, liema saff tiltaqa' miegħu

l-ewwel? \_\_\_\_\_ (1)



9. X'jissejjaħ il-post li jidher fl-istampa?  
\_\_\_\_\_ (1)

10. Għalfejn jintużaw postijiet bħal dak li qed  
tara f'din l-istampa?  
\_\_\_\_\_  
\_\_\_\_\_ (1)



(total eżerċizzju D = 10 marki)

### E: FOSSILI: immarka t-tweġbiet it-tajbin billi taqta' sing taħthom:


1. Insibu ammont kbir ta' **fossili**:

- fil-blat tal-Gżejjer Maltin,
- fl-irħula mxerrdin mal-Gżejjer Maltin,
- fil-bjar tal-kampanja.



2. Il-**fossili** juruna li Malta ffurmat ruħha kollha kemm hi taħt  
il-baħar:

- miljuni ta' snin ilu,
- eluf ta' snin ilu,
- mijiet ta' snin ilu.



3. Il-**fossili** juruna:

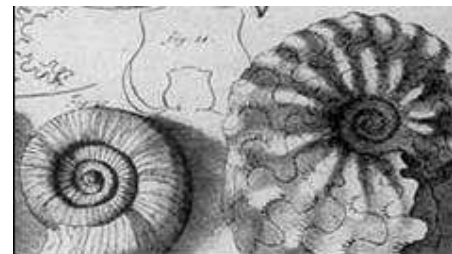
- kif kienet il-ħajja fil-baħar miljuni ta' sin  
ilu,
- kemm hu iebes il-blat,
- kif nistgħu nistadu aħjar għall-ħut.

4. Il-**fossili** huma l-fdalijiet tal-ħlejjaq tal-baħar:

- li kienu jieklu l-bebbux,
- li ntradmu mill-ħama u s-sediment u ġew maqbuda fil-blat,
- li nqabdu mis-sajjieda fl-antik.

5. Ġeneralment fil-blat jigu ppreservati:

- partijiet ħajjin bħall-qalb,
- partijiet iebsin bħall-għadam u l-qxur,
- partijiet rotob bħal-laħam.



6. Ippreservati fil-blat tagħna, fost l-oħrajn, insibu fossili ta':

- rizzi, bebbux u stilel tal-baħar,
- klieb, mogħoż u nagħaġ,
- donosawri u ljunj.



7. Fil-blat tagħna sibna numru kbir ta' snien:

- tal-Kelb il-Baħar l-Abjad,
- tal-pitirross
- ta' bnedmin li kienu jgħixu l-Afrika.

(marka 1 x 7 = 7 marki)

### F: Wieġeb bil-ghajjnuna tal-istampi:



1. Kif taħseb li ttiekel u tkisser il-blat ta' ritratt A?

\_\_\_\_\_ (1)

2. Kif taħseb li ttiekel il-blat ta' ritratt B? \_\_\_\_\_ (1)

3. Kif ittiekel il-blat ta' ritratt C? \_\_\_\_\_ (1)

4. Semmi tip ta' blat li jdum ħafna biex jittiekel. \_\_\_\_\_ (1)

5. Semmi tip ta' blat li jittiekel jew jitmermer malajr. \_\_\_\_\_ (1)

6. Fil-vojt ikteb **TNEJN** minn dawn li ġejjin li jgħinu biex jifforma ruħu **wied**: (*ħama, sigar, ċaqliq tal-art, annimali slavaġ, ilmijiet, għerien*).

(a) \_\_\_\_\_

(b) \_\_\_\_\_ (2)

7. Ikteb iż-**ŻEWĠ** postijiet minn dawn li ġejjin fejn insibu rdumijiet għoljin ħafna li jinżlu dritt għall-baħar? (*Valletta, Furjana, Ħad-Dingli, Mdina, Birgu, Ta' Ċenċ*)

(a) \_\_\_\_\_

(b) \_\_\_\_\_ (2)


8. Ikeb iż-**ŻEWĠT** ibliet jew irhula mibnija fuq għolja: (*Senglea, Mellieħa, San Ġiljan, Marsaxlokk, Nadur, Mqabba, Attard*)  
 (a) \_\_\_\_\_ (b) \_\_\_\_\_ (2)
9. Ikteb l-ismijiet taż-**ŻEWĠ** bajjiet imrammla: (*Għadira, Xrobb l-Għagin, Wied iż-Żurrieq, Għar Hasan, Marsamxett, Għajn Tuffieħa*)  
 (a) \_\_\_\_\_ (b) \_\_\_\_\_ (2)
10. **Immarka t-tajbin:** Għar Dalam u Għar Hasan iffurmaw ruħhom bl-ilmijiet tax-xmajjar; hawnhekk insibu qishom xemgħat imdendlin mis-saqaf li jissejġu (stalaktiti, stalagmiti) u oħrajn tilgħin mill-art li jissejġu (stalaktiti, stalagmiti)(2)  
 (total eżerċizzju F = 15-il marka)

**Ġ: Wieġeb bil-ghajnuna tat-tabella:**

<b>Prodotti tal-ikel</b>			
<i>baqar</i>	<i>żebuġ</i>	<i>qarabagħli</i>	<i>Dundjani</i>
<i>tiġieġ</i>	<i>patata</i>	<i>ħass</i>	<i>Zunnarija</i>

1. Żewġ prodotti li nieħdu mit-TROBBIJA TAL-BHEJJEM:

(a) \_\_\_\_\_  
 (b) \_\_\_\_\_ (2)



2. Żewġ prodotti li jigu mix-XOGĦOL FIR-RABA' tal-bidwi:

(a) \_\_\_\_\_ (b) \_\_\_\_\_ (2)

3. Minn dawn il-postijiet li ġejjin aghzel il-post fejn insibu l-aħjar raba' tajjeb u għammiel; ikteb il-post li għazilt fil-vojt: **GĦAR DALAM, WIED TAL-PWALES, ĦAL SAFLIENI, VALLETTA, MARSA, PIETÀ.**

\_\_\_\_\_ (1)



4. Semmi problema li sikwit iħabbtu wiċċha magħha l-bdiewa Maltin:

\_\_\_\_\_ (1)

5. Wieħed minn dawn il-prodotti li ġejjin jitkabbar fis-serer. Iktbu fil-vojt.

**TIĠIEĠ, PATATA, SILLA, FRAWLI, QAMĦ.** \_\_\_\_\_ (1)

6. Il-laring u l-lumi jissejġu sigar \_\_\_\_\_ (1)

(total eżerċizzju Ġ = 8 marki)

## G: Wieġeb bil-ghajnuna tal-istampa u l-lista mogħtija:

### LISTA:

- fliexken tal-plastik għall-ilma,
- vażetti tal-ħġieġ,
- *magazines*,
- fliexken tal-ħġieġ,
- karti,
- bottijiet tal-uluminju,
- fliexken tal-plastik għall-*juice*,
- fliexken tal-plastik tal-likwidu tal-ħasil,
- kartun irqiq,
- bottijiet tal-landa,
- gazzetti,
- fliexken tal-plastik tax-*shampoo*.



1. Semmi oġġett wieħed mil-lista li għandna npoġġu fil-kontejner immarkat METALL:

\_\_\_\_\_ (1)

2. Semmi oġġett wieħed mil-lista li għandna npoġġu fil-kontejner immarkat ĦĠIEĠ:

\_\_\_\_\_ (1)

3. Semmi oġġett wieħed mil-lista li għandna npoġġu fil-kontejner immarkat PLASTIK:

\_\_\_\_\_ (1)

4. Semmi oġġett wieħed mil-lista li għandna npoġġu fil-kontejner immarkat KARTA:

\_\_\_\_\_ (1)

5. Semmi vantaġġ wieħed tal-*bring-in sites*:

\_\_\_\_\_ (1)

6. Fejn imorru l-oġġetti li jingabru mill-*bring-in sites*?

\_\_\_\_\_ (1)

(6 marki)

### **GH: Wieġeb:**

*Fl-istampa tidher Ghajn Razul li qiegħda fit-tarf ta' San Pawl il-Baħar. Leggenda tgħidilna kif San Pawl ħareġ l-ilma mill-blat u bih għammed lill-ewwel Maltin li saru nsara.*



1. Minbarra Għajn Razul semmi post ieħor marbut mal-miġja ta' San Pawl fil-Gzejjer Maltin. \_\_\_\_\_ (1)
2. F'liema ktieb insibu r-rakkont ta' kif San Pawl gie Malta?  
\_\_\_\_\_ (1)
3. Min kiteb dan ir-rakkont f'dan l-istess ktieb?  
\_\_\_\_\_ (1)
4. Fejn kien sejjer Pawlu meta gie Malta? \_\_\_\_\_ (1)
5. Semmi parroċċa f'Malta u oħra f'Għawdex fejn isiru festi f'għieħ San Pawl:  
(a) parroċċa f'Malta: \_\_\_\_\_ (1)  
(b) parroċċa f'Għawdex: \_\_\_\_\_ (1)
6. Liema ġens kien jaħkem fuq il-Gzejjer Maltin meta x-xini li fuqu kien hemm San Pawl spiċċa mfarrak mal-blat qrib Malta? \_\_\_\_\_ (1)
7. Ikteb sentenza dwar l-importanza tal-miġja ta' San Pawl għall-istorja ta' Malta.  
\_\_\_\_\_  
\_\_\_\_\_ (2)

(total eżerċizzju GH - 9 marki)

### **H: L-Assedju l-Kbir u l-Bini ta' Belt Kapitali Ġdida:**

Wieġeb billi jew timla l-vojt jew taqta' sing taħt it-tajbin.

**Aqra:** *Fl-1530 waslu Malta l-Kavallieri ta' San Ġwann. Dawn ħadu l-kontroll tal-Gzejjer Maltin. Il-Kavallieri kienu tobba, infermiera kif ukoll ġellieda. L-għedewwa prinċipali tagħhom kienu t-Torok Ottomani. Il-Kavallieri bdew jattakkaw lix-xwieni Torok fiċ-ċentru tal-Mediterran, allura t-Torok iddeċidew li jattakkaw il-Gzejjer Maltin biex isahħu l-qagħda tagħhom fiċ-ċentru tal-Mediterran.*






**Wieġeb:**

1. It-Torok attakkaw lill-Gżejjer Maltin fis-sena (1530, 1565, 1600, 2000). (1)
2. Fi stampa A jidher il-forti Sant'Iermu. Il-Forti Sant'Iermu nbena fit-tarf (tal-peniżola Xiberras, tal-Birgu, tal-Isla, tal-Marsa). (1)
3. Stampa B turina l-Kastell Sant'Anglu. Dan il-kastell kien jiddefendi prinċipalment lill-(Għolja Xiberras, Birgu, Isla, Marsa). (1)
4. Stampa Ċ turina l-iskola primarja tal-Isla. Minflok din l-iskola, waqt l-Assedju l-Kbir kien hemm fortifikazzjoni importanti ħafna biex tiddefendi l-belt tal-Isla min-naħa tal-art. X'kien jisimha din il-fortifikazzjoni fit-tarf tal-Isla?  
\_\_\_\_\_ (1)
5. Liema fortifikazzjoni tal-Kavallieri giet attakkata l-ewwel fl-Assedju l-Kbir?  
\_\_\_\_\_ (1)
6. Ikteb l-isem tal-mexxej Tork li miet Malta waqt l-Assedju:  
\_\_\_\_\_ (1)
7. Semmi diffikultà li kellhom iħabbtu wiċċhom magħha t-Torok waqt l-Assedju.  
\_\_\_\_\_ (1)
8. X'titlu ingħata l-Birgu wara l-Assedju? \_\_\_\_\_ (1)

**Aqra:** wara li t-Torok Ottomani telqu telliefa minn Malta, il-Kavallieri ddeċidew li jibnu belt kapitali ġdida. L-Ewropej issa bdew jaraw lil Malta bħala tarka kontra l-firxa tal-Islam. Kompli wieġeb bil-għajnuna tal-istampi:



9. X'kien jismha l-belt il-ġdida? \_\_\_\_\_ (1)
10. Fejn inbriet? \_\_\_\_\_ (1)
11. Agħti raġuni waħda għaliex inbriet hemmhekk u mhux x'imkien ieħor.  
\_\_\_\_\_ (1)

12. Fares lejn stampa 1. X'turina l-istampa?  
\_\_\_\_\_ (1)



13. Wara li bnew il-Belt il-Ġdida, il-Kavallieri bnew ukoll fiha bosta djar u palazzi mill-isbaħ. Fi stampa numru 2 tidher il-Berġa tal-Italja. Semmi berġa oħra li bnew il-Kavallieri fil-Belt.  
\_\_\_\_\_ (1)

14. Fi stampa numru 3 hemm l-isptar li bnew il-Kavallieri fil-Belt. Kif kien jissejjaħ dan l-isptar? \_\_\_\_\_ (1)

15. Min għamel il-pjanti tal-bereġ u tal-isptar? \_\_\_\_\_ (1)

16. Lil liema qaddis il-Kavallieri iddedikaw il-knisja ta' stampa numru 4?  
\_\_\_\_\_ (1)

17. Semmi zewġ modi kif nistgħu nieħdu ħsieb il-Belt u l-bini sabiħ li nsibu fiha.

\_\_\_\_\_

\_\_\_\_\_

\_\_\_\_\_

\_\_\_\_\_ (4)

(total eżerċizzju H = 20 marka)