

ID-DIRETTORAT GĦAL KWALITÀ U STANDARDS FL-EDUKAZZJONI  
Id-Dipartiment tal-Kurrikulu u *eLearning*  
It-Taqsima tal-Assessjar Edukattiv  
L-Eżamijiet Annwali għall-Iskejjel Primarji 2011

Ir-Raba' Sena


L-ISTUDJI SOĊJALI

Il-Ħin: Siegħa u kwart

L-Isem: \_\_\_\_\_

Il-Klassi: \_\_\_\_\_

IT-TOTAL TAL-MARKI



**AQRA SEWWA DAN LI ĠEJ:**

- Imla ismek u l-klassi.
- Qabel tikteb it-twegiba, ara li tkun fhimt sewwa l-mistoqsija.
- Jekk ma tkunx taf tagħti xi twegiba, ħalliha vojta u kompli l-oħrajn, imbagħad erġa' ippruvaha fl-aħħar.
- Jekk tieġu żball, ingassah pulit u erġa' ikteb.
- Meta tlesti, erġa' ara l-karta kollha mill-bidu biex tirrangja xi żbalji li jista' jkollok u timla dak li ħallejt barra.

## Eżerċizzju A: Wieġeb billi taqta' sing taħt it-tajbin.

1. Bil-kelma **DRITT** nifhmu:

- (a) dak li nistenna mingħand ħaddieħor
- (b) dak li għandi nagħmel jien lil ħaddieħor
- (c) dak li nistenna mingħand l-għalliema tiegħi

2. Bil-kelma **DMIR** nifhmu:

- (a) dak li nistenna mingħand ħaddieħor
- (b) dak li għandi nagħmel jien
- (c) dak li nistenna mingħand l-għalliema tiegħi



(2 marki x 2 = 4 marki)

## Eżerċizzju B: Aqra.

Dawn li ġejjin huma xi affarijiet li għamel Ġużi lbieraħ. Maġenb kull waħda ikteb **DRITT** jew **DMIR**. L-ewwel waħda lesta bħala eżempju.

|     |  | DRITT jew DMIR? |
|-----|--|-----------------|
| Eż. | <i>Ġużi obda minn ommu u għall-kolazzjoni ħa ċereali bil-ħalib minflok pasta tal-ħelu.</i> | <b>DMIR</b>     |
| 1   | Għen lil ommu tipprepara l-lunch għall-iskola.   |                 |
| 2   | Il-ġenituri ta' Ġużi pprovdewlu lbies xieraq għall-iskola.                                 |                 |
| 3   | L-iskola ħa lezzjonijiet tajba fil-Matematika u l-Ingliš.                                  |                 |
| 4   | Meta kiel il-ħelu ma remiex il-karta fl-art imma fil-bin.                                  |                 |
| 5   | Wara l-iskola mar iżur lin-nanna u marrilha qadja.   |                 |
| 6   | Għamel il-homework kollu li tatu l-għalliema.  |                 |
| 7   | Mar jagħmel qadja oħra lil ommu.   |                 |
| 8   | Minbarra ħin għall-homework sab ukoll ħin għall-mistrieħ.                                  |                 |

(marka 1 x 8 = 8 marki)

## Eżerċizzju C: Min jien?

|   |   |  |
|---|---|--|
| 1 | Inzomm l-ordni fil-pajjiż; meta xi ħadd jikser il-liġi, jiena nressqu quddiem il-qorti. |  |
| 2 | Nagħti kura lill-morda fl-isptar, f'xi klinika u fid-djar stess.                        |  |
| 3 | Jiena kap ta' partit politiku u kap tal-gvern Malti.                                    |  |
| 4 | Jiena l-mexxej tal-Knisja Kattolika fid-dinja.  |  |
| 5 | Jiena mmexxi l-iskola primarja tar-raħal.   |  |

(2 marki x 5 = 10 marki)

## Eżerċizzju D: Liema mezz ta' komunikazzjoni nista' nuża?

Imla l-kaxxi vojta bil-mezz ta' komunikazzjoni li jixraq l-iktar. Uża l-kliem mogħti. Kull kelma tintuża darba biss.

*radju, gazzetta, posta, internet, mowbajl*



|   |  |  |
|---|--|--|
| 1 | Nixtieq naqra l-aħbarijiet li għaw ilbieraħ.                           |  |
| 2 | Nixtieq insib informazzjoni dwar id-deżert tas-Sahara fl-Afrika.       |  |
| 3 | Nixtieq navża malajr lil ommi li se ndum ftit ma nasal id-dar illejla. |  |
| 4 | Qiegħed fil-karozza u nixtieq nisma' ftit mużika.                      |  |
| 5 | Nixtieq nibgħat kartolina tal-Milied liz-ziju li joqgħod il-Kanada.    |  |

(marka 2 x 5 = 10 marki)

## Eżerċizzju E: Kif tista' tkun isbaħ ħajjitna permezz tal-mezzi ta' komunikazzjoni?

---



---



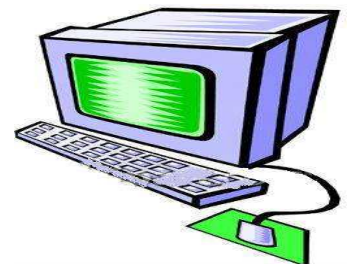
---



---



---



(3 marki)

## Eżerċizzju F: Ma' liema festa hi marbuta din id-drawwa?

|   | DRAWWA  | FESTA |
|---|---|-------|
| 1 | Jinħarqu l-murtali waqt il-ħruġ u waqt id-dhul tal-istatwa mill-knisja. |       |
| 2 | Jintramaw il-presepji u jiżżejnu t-twieqi bid-dwal.                     |       |
| 3 | Isiru l-figolli u jitqassmu bħala rigali.                               |       |
| 4 | Ħafna nies imorru l-Buskett jisimgħu l-għana tradizzjonali Malti.       |       |

(2 marki x 4 = 8 marki)

## Eżerċizzju G: Qabel billi tikteb in-numri minn 1 sa 5 fil-kaxxi l-vojtta:

|   |                                 |  |
|---|---------------------------------|--|
| 1 | Il-Konti Ruġġieru kien          | kienu ta' reliġjon Musulmana           |
| 2 | Meta l-Konti Ruġġieru ġie Malta | kienu ġellieda tajba                   |
| 3 | In-Normanni ġew Malta           | il-kap tan-Normanni li rebħu lil Malta |
| 4 | L-Għarab f'Malta                | kienu jaħkmu l-Għarab                  |
| 5 | Is-suldati Normanni             | minn Sqallija                          |

(marka 1 x = 5 marki)

## Eżercizzju H:

Ħdejn kull waħda minn dawn id-drawwiet li ssib hawn isfel, ikteb **ANTIK** jew **MODERN**, skont jekk hijiex drawwa ta' dari jew tal-lum.



|   |   | <b>ANTIK</b> jew <b>MODERN</b> ? |
|---|---|----------------------------------|
| 1 | Ir-raħħal jigi jbiegħ il-ħalib bieb bieb.               |                                  |
| 2 | Filgħaxija joqogħdu jaraw it-televixin.                 |                                  |
| 3 | Imorru jaraw film fiċ-ċinema.                           |                                  |
| 4 | It-tfal jilagħbu fuq il-kompjuter.                      |                                  |
| 5 | Jiltaqgħu fuq iz-zuntier tal-knisja u joqogħdu jgħannu. |                                  |
| 6 | Isegwu t-tlielaq tal-karozzi fuq it-televixin.          |                                  |
| 7 | Immorru naraw logħba futbol barra minn Malta.           |                                  |
| 8 | It-tfal jgħaddu ħinijiet twal jilagħbu l-passju.        |                                  |

(marka 1 x 8 = 8 marki)

## Eżercizzju I: Ħares sew lejn dan ir-rapport tat-temp:

**TEMP:** Imsaħħab bil-ħalbiet tax-xita.  
**RIĦ:** Moderat għal qawwi mill-Majjistral  
**TEMPERATURA:** 11-il grad Celsius



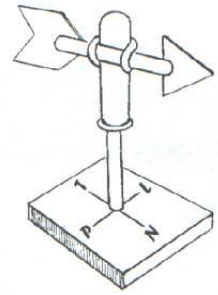
## Aqta' sing taħt it-TAJBA:

1. Ir-rapport tat-temp jurina li t-temp għal-lum se jkun (kiesaħ, xemxi, sħun, bnazzi).
2. X'hin noħroġ barra se nilbes (*T-shirt*, xorts, ġakketta, sandli).
3. Ix-xahar huwa (Awwissu, Ġunju, Lulju, Frar).
4. Fis-sitta ta' filgħaxija se jkun (ġa dalam, għadu d-dawl, għadu qiegħed jidlam, għadu qiegħed jisbaħ).

(2 marki x 4 = 8 marki)

**Eżerċizzju J: Imla l-vojt bl-isem tal-istrument.**

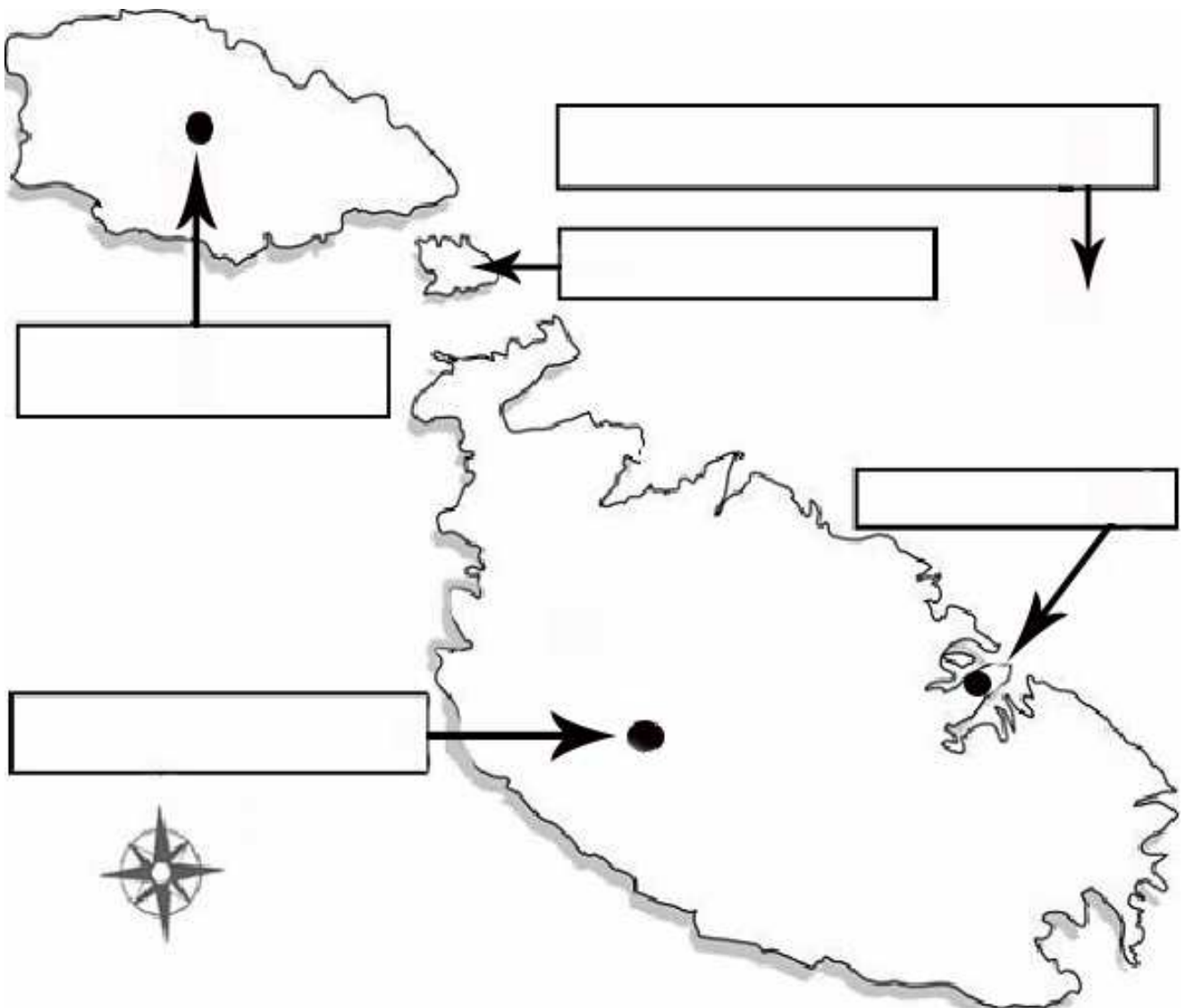
1. \_\_\_\_\_ juri d-direzzjoni tar-riĥ.
2. \_\_\_\_\_ jkejjel il-qawwa tar-riĥ.
3. \_\_\_\_\_ juri kemm niżlet xita.
4. \_\_\_\_\_ juri kemm hi sħuna jew kiesħa l-arja fi gradi Celsius.



(2 marki x 4 = 8 marki)

**Eżerċizzju K: Imla dawn li ġejjin fil-kaxxi tal-mappa:**

*Il-Baħar Mediterran, L-Imdina, Valletta, Victoria, Kemmuna*



(2 marki x 5 = 10 marki)

**Eżercizzju L: Wieġeb billi tikteb VERU jew FALZ.**

|    |   | VERU / FALZ |
|----|---|-------------|
| 1  | Biex insir naf fejn hi Birżebbuġa għandi bżonn mappa tal-Ewropa.      |             |
| 2  | Nista' nimmarka l-Port ta' Marsaxlokk fuq mappa ta' Malta.            |             |
| 3  | Għandi bżonn pjanta tal-Awstralja biex nara fejn hi Ruma.             |             |
| 4  | Użajt mappa tad-dinja biex tgħallimt il-kontinenti.                   |             |
| 5  | F'mappa żgħira tal-Ewropa ssib l-irhula ta' Malta immarkati.          |             |
| 6  | Jekk insiefer Ruma nista' niġi bżonn mappa tal-Italja.                |             |
| 7  | Kelli bżonn mappa ta' Franza biex nara fejn hu l-ajruport ta' Pariġi. |             |
| 8  | Biex issib triq f'xi belt jew raħal għandek bżonn mappa tad-dinja.    |             |
| 9  | Mappa tad-dinja ma turikx it-toroq ta' kull pajjiż.                   |             |
| 10 | Biex tara kif inhi mqassma l-iskola għandek bżonn pjanta tal-iskola.  |             |

(marka 1 x 10 = 10 marki)

**Eżercizzju M: Hares lejn il-kliem li hemm fil-kaxxa, imbagħad wieġeb billi timmarka t-tajbin bis-sinjal X fil-kaxxi:**

1. Dan huwa l-kliem:

|                     |  |
|---------------------|--|
| tal-Innu Malti      |  |
| ta' innu ta' skola  |  |
| ta' każin tal-festa |  |
| tal-Innu Taljan     |  |

2. Dan il-kliem kitbu:

|                       |  |
|-----------------------|--|
| Dun Mikiel Xerri      |  |
| Dun Karm Psaila       |  |
| Monsinjur Anġlu Agius |  |
| l-Arcisqof ta' Malta  |  |

3. Il-kliem huwa miktub f'forma ta':

|           |  |
|-----------|--|
| stilla    |  |
| komponent |  |
| poeżija   |  |
| quddiesa  |  |

4. 'Din l-art helwa' qed tirreferi għal:

|   |  |
|---|--|
| art fejn jikbru ħafna sigar             |  |
| Malta                                   |  |
| pajjiż fl-Amerika                       |  |
| art fejn jinħadem ħafna ħelu għall-ikel |  |

(2 marki x 4 = 8 marki)

**IT-TMIEM TAL-KARTA**