

ID-DIRETTORAT GĦAL KWALITÀ U STANDARDS FL-EDUKAZZJONI
Id-Dipartiment tal-Kurrikulu u *eLearning*
It-Taqsima tal-Assessjar Edukattiv

L-Eżamijiet Annwali għall-Iskejjel Primarji 2011


Il-Ħames Sena

L-ISTUDJI SOĊJALI

IL-Ħin: Siegħa u Kwart

L-Isem: _____ Il-Klassi: _____

IT-TOTAL TAL-MARKI



AQRA SEWWA DAN LI ĠEJ:

- Imla ismek u l-klassi.
- Qabel tikteb it-twegiba, ara li tkun fhimt sewwa l-mistoqsija.
- Jekk ma tkunx taf tagħti xi twegiba, ħalliha vojta u kompli l-oħrajn, imbagħad erga' ippruvaha fl-aħħar.
- Jekk tieħu żball, ingassah pulit u erga' ikteb.
- Meta tlesti, erga' ara l-karta kollha mill-bidu biex tirranga xi żbalji li jista' jkollok u timla dak li ħallejt barra.

Eżercizzju A: Wieġeb dwar il-LINGWA MALTIJA billi tikteb VERU jew FALZ.

		VERU jew FALZ
1	Bis-saħħa tal-lingwa Maltija nistgħu nirbħu iktar midalji fil-Logħob Olimpiku.	
2	Bis-saħħa tal-lingwa Maltija ningħarfu minn liema pajjiż ġejjin.	
3	Bis-saħħa tal-lingwa Maltija nistgħu nħajru turisti Franciżi jiġu għal vaganza Malta.	
4	Nużaw il-lingwa biex inwasslu messaġġi fil- <i>mass media</i> .	
5	Nużaw il-lingwa Maltija biex niktbu ittri fil-ġurnali ta' barra minn Malta.	
6	Bil-lingwa Maltija aħna l-Maltin nikkomunikaw bejnietna.	
7	Il-lingwa hija mezz biex bih niktbu u naqraw.	
8	Nużaw il-lingwa Maltija biex nixtru prodotti bl- <i>Internet</i> mill-Ingilterra.	

(marka 1 x 8 = 8 marki)

Eżercizzju B: Ikteb x'tista' tagħmel int biex ikollna dinja aħjar.

1. Nista' ngħin biex ikollna ambjent iktar nadif billi

2. Nista' ngħin biex ingħib iktar paċi meta

3. Nista' ngħin lil min hu fil-bżonn billi

(2 marki x 3 = 6 marki)

Eżercizzju C: Ikteb sentenza dwar kif dawn in-nies jgħinuna fil-ħajja tagħna.

1. Il-gwardjan/a lokali:



2. Il-pulizija:




3. Il-qassis:



4. It-tabib/a:



5. L-għalliem/a:



(2 marki x 5 = 10 marki)

Eżerċizzju D: Ir-Rapport tat-Temp:

It-temp ivarja skont l-istaguni. Hawnhekk issib żewġ rapporti tat-temp. Aqra d-dati sew. Wara imla l-vojt. Agħzel minn dan il-kliem li ġej. Waħda minnhom lesta bħala eżempju.



9	10 gradi Celsius	imsaħħab b'xi halbiet tax-xita
2	34 grad Celsius	ħafif għal moderat mit-Tramuntana
7.9 millimetri	sabiħ u xemxi	qawwi mill-Majjistral

Rapport Numru 1

Data	It-Tnejn 10 ta' Lulju
Temp	
Riħ	
Xita	Xejn
Temperatura	
UV Index	

Rapport Numru 2

Data	il-Ġimgħa 2 ta' Jannar
Temp	
Riħ	
Xita	
Temperatura	
UV Index	

(marka 1 x 9 = 9 marki)

Eżerċizzju E: Imla l-kliem fil-kolonna t-tajbin; tlieta minnhom lesti bħala eżempji.


~~Tundra~~ jghixu ftit nies ftit hdura ~~kaktus~~ serp velenuż
 silġ ambjent aħrax ramel gemel xitwa twila
 Eskimiżi shana qawwija borra ~~xita skarsa~~ temperaturi estremi

Deżert kiesaħ	Deżert sħun	Komuni (issibhom fid-deżert kiesaħ u fid-deżert sħun)
Eż: Tundra	Eż: kaktus	Eż: xita skarsa

(marka 1 x 12 = 12-il marka)

Eżercizzju F: Immarka t-twegiba t-tajba.

1. Meta tagħmel ħafna xita f'daqqa jkollna (għargħar, terremot, tsunami, bnazzi).
2. Meta ddum ħafna ma tagħmel xita, ikollna (għargħar, nixfa, terremot, tsunami).
3. Meta jagħmel terremot qawwi ħafna, ir-riżultat dejjem ikun (bini mwaqqa', xita kbira, ħafna sħab, ħafna jiem ta' bnazzi).
4. Meta jagħmlu maltempati ħorox ġieli (jinxfu l-widien, jinqata' d-dawl, ikollna ħafna frott, tinzera' l-patata).
5. Meta tagħmel nixfa kbira (jinħoloq mewġ kbir, ikollna ħafna iktar frott mis-soltu, jinqatgħu l-linji tat-telefon, ikollna nuqqas ta' ilma għax-xorb).




(marka 1 x 5 = 5 marki)

Eżercizzju G: Għaliex taħseb li l-ħajja tal-bidwi hija iebsa ħafna?
Ikteb żewġ sentenzi biex tispjega dan.

Sentenza 1:

Sentenza 2:



(2 marki x 2 = 4 marki)

Eżercizzju H: Wieġeb billi timla l-vojt jew timmarka l-kaxxi bis-sinjal X.

1. Semmi villaġġ fil-Gżejjer Maltin li huwa magħruf ħafna għas-sajd:

_____ (2)

2. Meta ngħidu sajjied *part-time* nifhmu:

sajjied li joħroġ jistad is-Sibt u l- Ħadd biss	
sajjied li joqgħod San Ġiljan	
sajjied li xogħlu jistad biss	
sajjied li għandu xogħol ieħor minbarra s-sajd	



(2)

3. Semmi ħuta waħda li tinqabad ħafna mis-sajjieda Maltin. _____ (2)

4. Ħafna mill-ħut maqbud mis-sajjieda Maltin:

jinbiegħ lill-Amerikani	
jittieħed il-pixkerija biex jinbiegħ	
mhux tajjeb għall-ikel	
jerga' jintrema fil-baħar	

(2)

5. Generalment is-sajjieda Maltin kif jaqbduh il-ħut?

_____ (2)

6. Għaliex ix-xogħol tas-sajjied jista' jkun iebes ħafna?

_____ (2)

7. Fl-istampa tal-lemin jidher it-Torri ta' San Luċjan.




F'dan it-torri nsibu ċ-ċentru tal-Akwakultura. Għaliex taħseb li l-Akwakultura tista' tkun ta' vantaġġ għalina?






Eżercizzju I: Aqra:

Pawlu Attard jattendi l-Ħames Sena tal-Primarja. L-iskola qegħdin jitgħallmu dwar il-bliet qodma Maltin. Il-papà ta' Pawlu, is-Sur Toni Attard, iddeċieda li f'Jannar, kull nhar ta' Ħadd, jibdew iżuru xi belt qadima. Magħhom ingħaqdet ukoll Mariosa Cassar, ħabiba ta' Pawlu li toqgħod fl-istess triq tagħhom u li qiegħda wkoll fil-Ħames Sena. Waqt iż-żjarat li għamlu, ħadu ħafna ritratti biex wara jagħmlu album ta' tifikira.

Aħdem: Dawn kienu sitt ritratti li ħadu. Ikteb l-isem tal-belt: **IL-BIRGU, L-IMDINA** jew **IĊ-ĊITTADELLA** taħt kull ritratt. Kull isem irid jinkiteb darbtejn.

		
<i>Il-Bieb ta' Mondion</i>	<i>Il-Katidral ta' Santa Marija</i>	<i>Il-Kastell Sant'Anglu</i>
belt:	belt:	belt:

		
<i>Il-Katidral ta' San Pawl</i>	<i>Il-Palazz tal-Inkwizitur</i>	<i>Triq dejqa f'belt go Ghawdex</i>
belt:	belt:	belt:

(2 marki x 6 = 12-il marka)

Eżercizzju J: Kompli wieġeb dwar iż-żjarat li għamlu s-Sur Toni Attard, Pawlu u Mariosa fil-bliet il-qodma. Aqta' sing taħt it-tajbin.

1. Fl-ewwel Hadd ta' Jannar, is-Sur Attard ħa lil Pawlu u lil Mariosa f'belt antika maġenb il-baħar. Huma marru (l-Imdina, ċ-Ċittadella, l-Birgu, ż-Żurrieq). (2)
2. Fit-tieni Hadd ta' Jannar huma marru f'belt qadima f'Malta mibnija fuq għolja. Huma marru (l-Imdina, ċ-Ċittadella, l-Birgu, ż-Żurrieq). (2)
3. Fit-tielet Hadd ta' Jannar huma marru Għawdex iżuru l-belt qadima t'hemmhekk. Huma żaru (l-Imdina, ċ-Ċittadella, l-Birgu, ż-Żurrieq). (2)
4. Kemm ġewwa l-Imdina kif ukoll goċ-Ċittadella, it-tfal ħadu ħafna ritratti ta' (xarabanks, jottijiet lussużi, toroq dojoq, bereġ tal-Kavallieri). (2)
5. Fl-istampa fuq il-lemin jidher it-Torri tal-Istandard. Dan jinsab (il-Birgu, l-Imdina, iċ-Ċittadella, il-Belt Valletta). (2)
6. Fil-Birgu t-tfal ħadu ritratti ta' (Mużew tal-Folklor, Katidral, bereġ qodma tal-Kavallieri, Mużew tal-Istorja Naturali) (2)
7. Minn dak li raw it-tfal fl-Imdina, semmi xi ħaġa li mill-antik sal-lum ma nbidlitx, jiġifieri baqgħet l-istess.



_____ (2)

8. Semmi xi ħaġa li raw it-tfal fil-Birgu li miż-żminijiet qodma sal-lum inbidlet, jiġifieri ma baqgħetx l-istess.

_____ (2)

9. Fiż-żjarat li għamlu t-tfal l-Imdina, il-Birgu u ċ-Ċittadella, dejjem iltaqgħu ma' ħafna turisti. Għaliex taħseb li għalina l-Maltin huwa tajjeb meta ħafna turisti jżuru Malta?

_____ (3)

(Total eżercizzju J = 19-il marka)

TMIEM IL-KARTA