

ID-DIRETTORAT GĦAL KWALITÀ U STANDARDS FL-EDUKAZZJONI
Id-Dipartiment tal-Kurrikulu u l-eLearning
It-Taqsima tal-Assessjar Edukattiv
L-Eżamijiet Annwali għall-Iskejjel Primarji 2012

Ir-Raba' Sena


L-ISTUDJI SOĊJALI

Il-Ħin: Siegħa u kwart

L-Isem: _____

Il-Klassi: _____

IT-TOTAL TAL-MARKI



AQRA SEWWA DAN LI ĠEJ:

- Imla ismek u l-klassi.
- Qabel tikteb it-twegiba, ara li tkun fhimt sewwa l-mistoqsija.
- Jekk ma tkunx taf tagħti xi twegiba, ħalliha vojta u kompli l-oħrajn, imbagħad erġa' ippruvaha fl-aħħar.
- Jekk tieġu żball, ingassah pulit u erġa' ikteb.
- Meta tlesti, erġa' ara l-karta kollha mill-bidu biex tirrangja xi żbalji li jista' jkollok u timla dak li ħallejt barra.

1. Wieġeb billi taqta' sing taht is-sentenza t-tajba.

1. Il-ħbieb tagħna jistgħu jkunu:

- (a) il-ġenituri biss
- (b) anke dawk ta' kulur tal-ġilda differenti minn tagħna
- (c) sħabna tal-klassi biss

2. Il-ħbieb tagħna:

- (a) suppost ikunu subien biss
- (b) jistgħu jkunu bniet u subien
- (c) għandhom ikunu bniet biss

3. Ħbiebna:

- (a) huma dawk li għandhom l-istess reliġjon bħal tagħna biss
- (b) huma dawk li joqogħdu Malta biss
- (c) jistgħu jkunu anke dawk li ma jemmnux fl-istess reliġjon li nemmnu aħna

4. Mal-ħbieb tiegħi nieħu gost:

- (a) niddiskuti l-passatempo tiegħi
- (b) meta jkollna xi ngħidu bejnietna
- (c) niġġieled fuq il-politika



(2 marki x 4 = 8 marki)

2. Meta naħdmu fi gruppi.

Ikteb VERU jew FALZ wara kull waħda minn dawn is-sentenzi.

		VERU jew FALZ
1	Il-grupp ilesti x-xogħol tiegħu aħjar meta kulhadd iżomm il-ħin.	
2	Il-grupp jimxi aħjar meta kulhadd jimxi skont ir-rwoli li għandu.	
3	Il-mexxej tal-grupp għandu jiddeċiedi kolloxx hu waħdu.	
4	Niftakru li fil-grupp ma jistax ikun tgħaddi dejjem tagħna.	
5	Meta fil-grupp ma naqblux nistgħu nitgħajru bejnietna.	
6	Fil-grupp kulhadd għandu dritt jesprimi l-opinjoni tiegħu.	
7	Wieħed mir-rwoli tal-mexxej tal-grupp huwa li jżomm l-ordni waqt il-laqgħat tal-grupp.	
8	Fil-grupp m'għandniex nistennew li l-ħbieb tal-qalb tagħna jaħdmu magħna biss.	

(marka 1 x 8 = 8 marki)

3. Uża ħames (5) kelmiet minn dawn li ġejjin biex timla l-vojt.

Prim Ministru	<i>warden</i>	mexxej tal- <i>iscouts</i>	għalliem	kappillan
tal-merċa	kennies	membru tal-Parlament	is-sindku	pulizija

1. _____
jmexxi l-laqgħat tal-kunsill lokali.
2. Iċ-ċerimonji reliġjużi fil-knisja
jitmexxew mill-
_____ .
3. Meta xi ħadd jinqabad jikser il-liġi,
jittella' l-qorti mill-
_____ .
4. Il-mexxej tal-pajjiż kollu huwa
l-_____ .
5. Jekk it-toroq tagħna jkunux nodfa jew maħmuġa, jiddependi ħafna
mill-_____ .



(2 marki x 5 = 10 marki)

4. Liema mezz ta' komunikazzjoni nista' nuża? Aqta' sing taħt ir-risposta t-tajba li ssib fil-parentesi.

1. Biex infittex informazzjoni dwar il-muntanji tal-Amerika t'Isfel
jaqbilli nuża (r-radju, l-gazzetta, l-Internet, l-mowbajl).
2. Biex naqra l-aħbarijiet tal-ġurnata jaqbilli nuża (l-mowbajl,
l-gazzetta, l-enciklopedija, l-karozza).
3. Biex navża malajr lil ħabibi li se ndum ma nasal għall-
appuntament li kellna, jaqbilli nuża (l-gazzetta, r-radju,
t-televisin, l-mowbajl).
4. Biex nibgħat *card* lil ħabibti f'għeluq sninha jaqbilli nuża (l-gazzetta, l-karozza,
t-telefown, l-posta).




(2 marki x 4 = 8 marki)

5. Ikteb żewġ sentenzi dwar kif għandna ngibu ruġna fit-triq.

(a) _____

(b) _____



(2 marki x 2 = 4 marki)

6. Fares lejn dan ir-rapport tat-temp:

TEMP: ftit imsaħħab
RIĦ: moderat għal ħafif mill-Grigal
TEMPERATURA: 30 grad Celsius



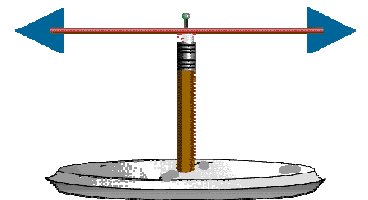
Aqta' sing taħt it-TAJBA:

1. X'hin noħroġ barra llum se nilbes (kowt, *T-shirt*, ġakketta, *boots*).
2. Fis-sebġha ta' filgħaxija se jkun (ġa dalam, għadu d-dawl, għadu qiegħed jisbaħ, dlam ċappa).
3. Ix-xahar huwa (Awwissu, Diċembru, Jannar, Frar).
4. Ir-rapport tat-temp jurina li t-temp għal-lum se jkun (kiesaħ, bix-xita, bnazzi, bil-maltempati u r-ragħad).

(2 marki x 4 = 8 marki)

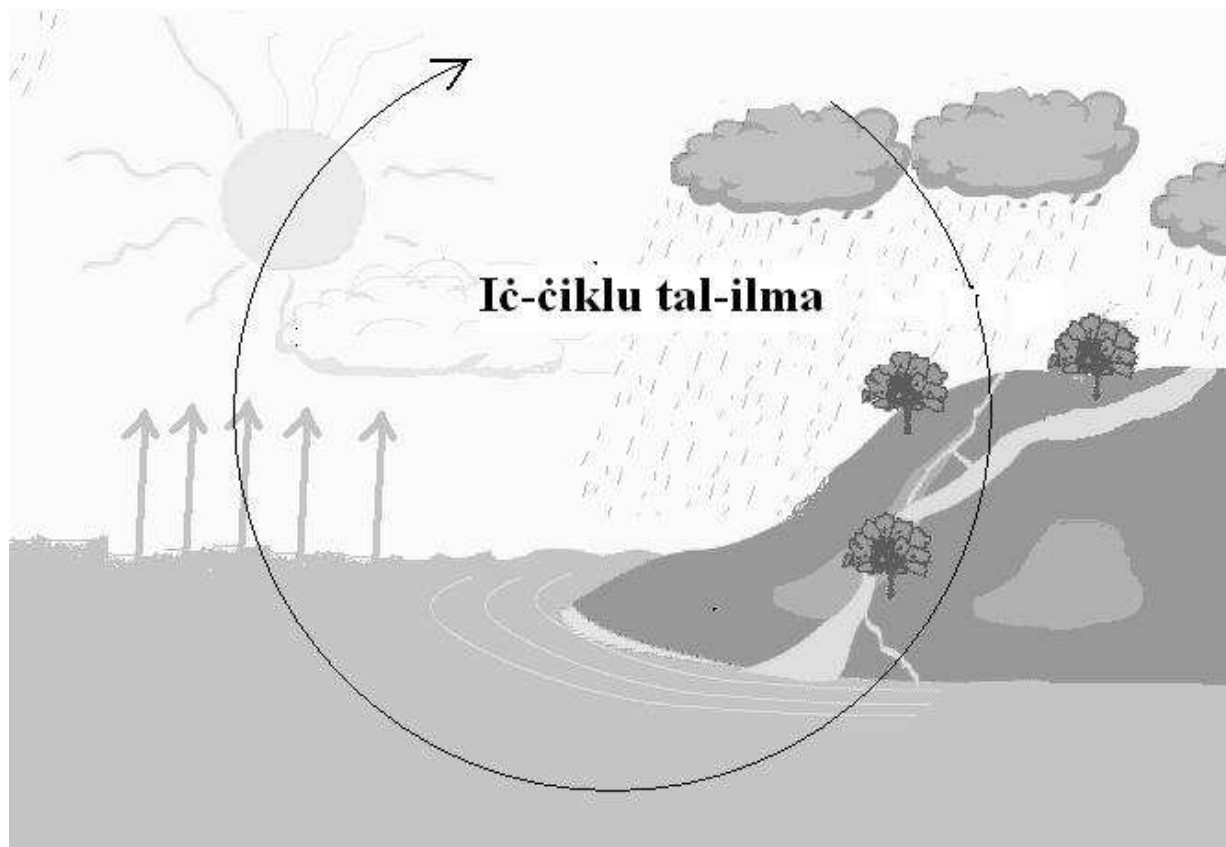
7. Aqta' sing taħt ir-risposta t-tajba.

1. Permezz ta' (*rain-gauge*, anemometru, pinnur, termometru) nistgħu nkejlu kemm tkun niżlet xita.
2. Il-qawwa tar-riħ inkejluha permezz ta' (*rain-gauge*, anemometru, pinnur, termometru).
3. Id-direzzjoni tar-riħ insibuha permezz ta' (*rain-gauge*, anemometru, pinnur, termometru).
4. (*Rain-gauge*, Anemometru, Pinnur, Termometru) jurina jew turina kemm hi sħuna jew kiesħa l-arja fi gradi Celsius.



(2 marki x 4 = 8 marki)

8. **Ħares lejn din l-istampa li turina ċ-ĊIKLU TAL-ILMA.**



Imla l-vojt fil-kitba li ġejja. Uża l-kliem li ġejj:

baħar	shab	ħwejjeġ	jimtlew	issaħħan
jiksaħ	ix-xita	fwar	fl-għadajjar	jissaqqew

1. Ix-xemx _____ l-ilma li hemm f'bosta postijiet, pereżempju _____, fil-widien u anke fil-_____ minxura fuq il-bjut.
2. L-ilma b'hekk isir _____ u dan jitla' 'l fuq.
3. Hu u tiela' 'l fuq _____ u jsir _____.
4. Meta s-shab ma jkunx jiflaħ iżomm iżjed ilma tagħmel _____.
5. Meta jinżel dan l-ilma _____ l-għelieqi u _____ il-bjar.
6. Ħafna mill-ilma li jinżel fit-triq jispiċċa fil-widien jew fil-_____.

(marka 1 x 10 = 10 marki)

9. Imla l-kaxxi tal-lemin b'waħda minn dawn.
(kull waħda trid tiktibha darbtejn)



deżert kiesaħ, deżert sħun, merghat, foresta

1	Issib iktar siġar hawn milli ssib fid-deżert.	
2	Issib ħafna annimali jfittxu l-ikel hawn.	
3	Issib ħafna silġ u siġar ftit li xejn.	
4	Issib kwantitajiet kbar ta' ramel.	
5	Fis- <i>Sahara</i> tal-Afrika ssib minn dan l-aktar.	
6	L-Eskimi mдорrijin jgħixu f'ambjent bħal dan.	
7	Minn hawn inġibu ħafna injam.	
8	Il-bniedem iħobb imur jikkaċċja annimali għall-ikel hawn.	

(marka 1 x 8 = 8 marki)

10. Wieġeb skont il-mappa.

1. Il-pajjiż li nsibu fejn hemm l-ittra A jismu _____

u l-belt kapitali tiegħu hija _____ .

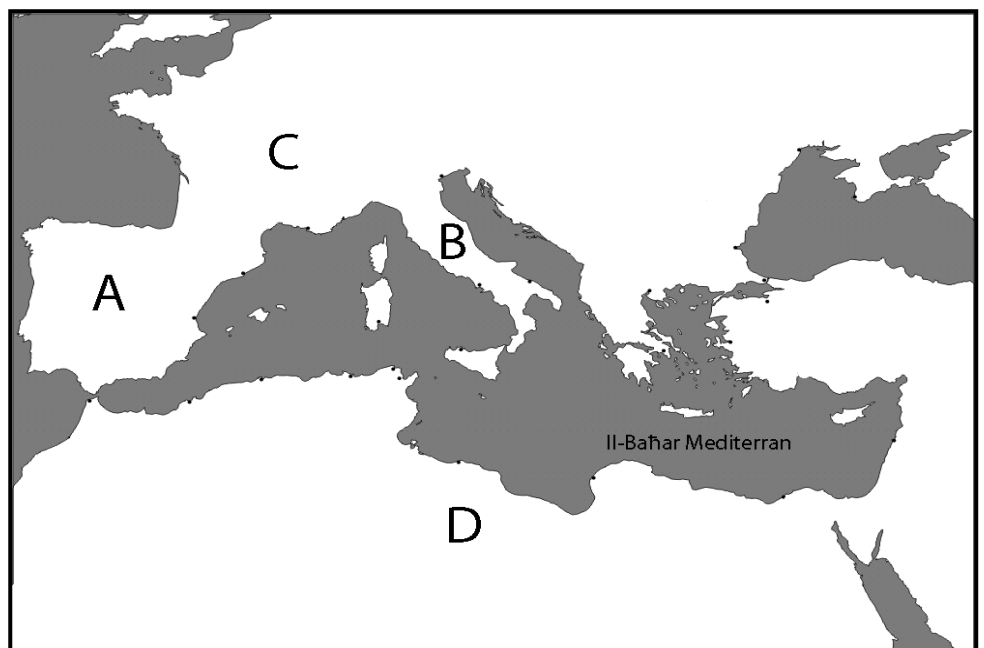
2. Il-pajjiż li nsibu fejn hemm l-ittra B jismu _____

u l-belt kapitali tiegħu hija _____ .

3. Il-pajjiż li nsibu fejn hemm l-ittra C jismu _____ u l-belt kapitali tiegħu hija _____ .

4. Il-pajjiż li nsibu fejn hemm l-ittra D jismu _____ u l-belt kapitali tiegħu hija _____ .

5. Fuq il-mappa immarka bis-sinjal (X) fejn insibu lil Malta.



(2 marki x 5 = 10 marki)

11. Imla l-kaxxi l-vojta jew bil-kliem DUN KARM jew DUN MIKIEL XERRI.

1	Kiteb il-versi tal-Innu Malti.	
2	Miet xkubettjat mill-azzarini tal-Francizi.	
3	Għall-bidu kien jikteb poeziji bit-Taljan.	
4	Kien patrijott għax ħalla ħajtu għal pajjiżu.	
5	Beda jikteb poeziji bil-Malti aktar tard f'ħajtu.	
6	Ħadem biex Malta tkeċċi lill-ħakkiema Francizi.	

(marka 1 x 6 = 6 marki)

12. Personalitajiet Maltin. Wieġeb.



*monument lil
Dun Mikiel Xerri u sħabu
Fil-Belt Valletta*



*monument lil
Dun Karm Psaila
fil-Furjana*

1. Semmi raġuni waħda għaliex taħseb li l-Maltin ħassew il-bzonn li jagħmlu monument lil Dun Mikiel Xerri u sħabu?

(2)

2. Għaliex taħseb li Dun Karm Psaila kien jisthoqqlu li jibqa' jissemma u mfakkar permezz ta' monument?

(2)

3. Semmi effett li Dun Karm Psaila ħalla fuq in-nies li ġew fi żmien u warajh.

(2)

(2 marki x 3 = 6 marki)

13. Aqra, imbagħad wieġeb.

Fir-ritratt tidher it-tribuna tas-Saqqajja tar-Rabat minn fejn il-Gran Mastru kien joqgħod jara t-tlielaq tal-bhejjem fil-festa tal-Imnarja. Ikteb tliet sentenzi dwar IL-FESTA TAL-IMNARJA.



1. _____

2. _____

3. _____

(2 marki x 3 = 6 marki)