

Eżami għad-Dhul fl-Ewwel Sena tal-Junior Lyceum 2004

STUDJI SOĊJALI

L-istudenti huma mhegga li jiktbu Malti tajjeb.

A. AGHMEL SING TAHT IT-TWEGIBA T-TAJBA:

1. Missier u omm jagħmlu parti mill- (knisja, familja, iskola).
2. Li tisma' u turi rispettt lejn l-oħrajn hu wiehed mid-(dmirijiet, drittijiet, passatempi).
3. Ir-religjon hi marbuta mal-(kotba, logħob, kultura) f'kull soċjetà.
4. L-edukazzjoni ċivika tghinna nsiru ċittadini (traskurati, għażzenin, responsabbli).
5. Fis-soċjetà ta' l-informatika hafna xogħol li kien isir mill-haddiema qiegħed isir mill- (impjegati, imghallem, kompjuter).
6. Xogħol fit-turiżmu u l-banek huwa xogħol ta' (tiswija, servizz, bini).
7. Jum l-Indipendenza u Jum il-Vitorja huma tnejn mill-festi (pubbliċi, nazzjonali, reliġjużi) Maltin.
8. Il-Prim Ministru u l-Ministri tal-Gvern, flimkien, jissejhu (Kabinett, Parlament, Oppożizzjoni).

(marka 1 x 8 = 8 marki)

B. IKTEB IL-KLIEM FIL-POST IL-VOJT:

Għar Dalam
Żmien il-Ħaġar

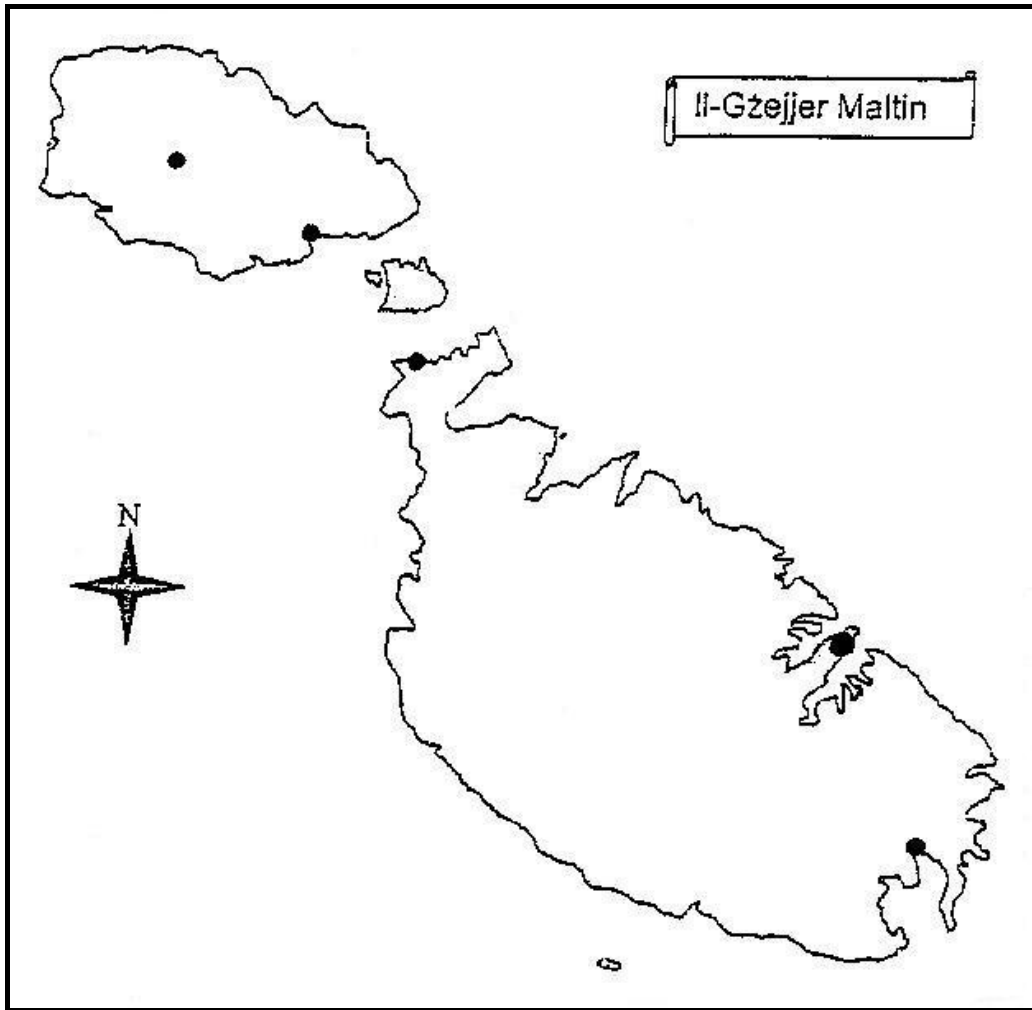
Żmien il-Pre-Istorja
Ġgantija

Arkeoloġija
Sqallija

Menhir
Ipogew

1. L-ewwel nies li ġew Malta ma kinux jafu jiktbu u għalhekk iż-żmien tagħhom jissejjaħ hekk. _____
2. L-ewwel nies f'Malta kienu jużaw ħafna blat u ġebel, għalhekk dan iż-żmien jissejjaħ hekk ukoll. _____
3. L-ewwel nies f'Malta ġew minn din il-gżira. _____
4. F'dan l-għar kienu sabu fdalijiet fossilizzati ta' ljunfanti, ippopotami u annimali oħra. _____
5. Tempji kbar megalitici f'Għawdex. _____
6. Tempju ta' taħt l-art f'Hal Saflieni. _____
7. L-istudju li jsir meta tħaffer għal oġġetti antiki midfuna. _____
8. Ġebbla kbira wieqfa ta' Żmien il-Bronż. _____

(marka 1 x 8 = 8 marki)



Ċ.

- a. **Hares lejn il-Mappa ta' Malta u Ghawdex.**
Hames tikek suwed juru hames postijiet differenti.
Aqta' min huma.

Il-belt kapitali ta' Malta.

Il-belt ewlenija tal-gżira ta' Ghawdex.

Port f'Malta li fih hafna dghajjes tas-sajd.

Il-vapur jitlaq lejn Ghawdex minn hawn.

Meta l-vapur jasal Ghawdex jidhol f'dan il-port.

(marka 1 x 5 = 5 marki)

- b. **Ikteb l-isem tal-HAMES postijiet fuq il-mappa tal-Gzejjer Maltin.**

(marka 1 x 5 = 5 marki)

**D. AQRA L-ISTORJA.
WIEĠEB IL-MISTOQSIJJET.**

Alex qiegħed fis-sitt sena ta' l-iskola primarja. Ihobb hafna l-isports. Ma jitlifix okkazzjoni wahda ta' logħob fl-iskola, jew mal-ħbieb wara l-iskola. Ommu tifhimha mod ieħor. Tahseb li bl-isports Alex se jibqa' lura fl-iskola u ma jgħaddix mill-eżamijiet. L-iskola, iżda, dejjem jitgħallem li l-isports hu parti mill-edukazzjoni tal-bniedem. Mill-isports nitgħallmu nahdmu f'tim, nagħmlu ħbieb godda, nibnu relazzjoni ma' l-oħrajn, nitgħallmu kif nuru l-ferħ tagħna meta nirbhu u nitgħallmu naċċettaw meta nitilfu. Waqt l-isports, l-għalliema dejjem ifakkru lit-tfal tal-klassi biex jieħdu ħsieb saħħithom u ma jwegġgħux: ma jiġrux bl-addoċċ, ma jimbuttawx, ma jiġgildux. Alex, bħal shabu tal-klassi, jifhem li l-isports jgħin hafna l-edukazzjoni tagħna u sikwit ifiehem dan lil ommu. Biż-żmien, omm Alex qiegħda tifhem dan ukoll, u m'għadhiex tgergirlu bħal qabel.

1. Alex kif juri li jhobb l-isports?

_____ (marka 1)

2. Semmi eżempju ta' sports li tagħmel fl-iskola.

_____ (marka 1)

3. Mill-istorja sib **ŻEWĠ** raġunijiet li minħabba fihom l-isports jeduka l-bniedem.

_____ (2 marki)

4. L-isports u saħħitna huma marbutin flimkien. Għaliex tahseb li hu hekk?

_____ (2 marki)

5. Ikteb sentenza biex turi li fl-isports hemm sens ta' ftehim u koperazzjoni.

_____ (2 marki)

(8 marki b'kollox)

E. WIEĠEB IL-MISTOQSIJET:

1. Għaliex ferħu l-Maltin fit-8 ta' Settembru 1565?

2. Għaliex il-Maltin irvellaw kontra l-Inglizi fis-7 ta' Ġunju 1919?

3. Lil min nagħtu gieh fit-tifkira tas-7 ta' Ġunju 1919?

4. Xi tfisser l-Indipendenza ta' l-1964?

5. Lil min kien jirrappreżenta l-Gvernatur Ġenerali?

6. X'ifisser li Malta saret Repubblika fit-13 ta' Dicembru 1974?

7. Xi tfisser li Malta, fil-passat, fi żmien l-Inglizi, kellha ekonomija ta' fortizza?

8. Għaliex il-31 ta' Marzu 1979 huwa jum importanti għal Malta?

(marka 1 x 8 = 8 marki)

**F. Kull haddiem ghandu t-tbatija tieghu.
Semmi diffikultà wahda differenti ghal kull haddiem imsemmi
hawn taht waqt li jkun qed jahdem.**

1. Bidwi _____
2. Raħhal _____
3. Haddiem go fabbrica _____
4. Sewwieq tal-*container* _____
5. Bejjiegh tal-haxix _____
6. Haddiem go barriera _____
7. Bennej _____
8. Xufier tal-karozza tal-linja _____

(marka 1 x 8 = 8 marki)

**Ġ. SEMMI FEJN.
IKTEB SENTENZA OHRA DWAR IL-POST.**


1. **Inkomplu nitghallmu meta naghlu 11-il sena:**
Fejn? _____ Sentenza _____
_____ (2 marki)
2. **Jibnu u jsewwu l-vapuri:**
Fejn? _____ Sentenza _____
_____ (2 marki)
3. **Meta jispičaw wehedhom, l-anzjani jsibu kenn fejn joqogħdu u
nies ohra li jduru bihom:**
Fejn? _____ Sentenza _____
_____ (2 marki)
4. **Ir-rappreżentanti tal-poplu eletti f'elezzjoni jagħmlu l-liġijiet:**
Fejn? _____ Sentenza _____
_____ (2 marki)
5. **Id-drittijiet tač-čittadini jiġu mharsa bil-liġi:**
Fejn? _____ Sentenza _____
_____ (2 marki)

(2 marki x 5 = 10 marki)

- G. Hares lejn **STAMPA A** u **STAMPA B**.
 Qabbel l-istampa mat-taghrif.
 Ikteb it-twegiba fuq stampa A taht kolonna A.
 Ikteb it-twegiba fuq stampa B taht kolonna B.



STAMPA A



STAMPA B

	TAGHRIF	A	B
1	Il-Ġrajja	a. _____	b. _____
2	Il-ħbieb tal-Maltin	a. _____	b. _____
3	L-ghedewwa tal-Maltin dak iż-żmien	a. _____	b. _____
4	Is-sena meta beda l-attakk fuq Malta	a. _____	b. _____

(marka 1 x 8 = 8 marki)

GH. Mikiel u Doris ħadu sehem fi Kwizz Ġeografiku dwar **il-pajjiżi tal-Mediterran** li huma mmarkati fuq il-mappa.

a. **Wieġeb il-mistoqsijiet li għamlu lilhom.**

1. Liema hu l-pajjiż li għandu l-kosta tiegħu fuq l-Oċean Atlantiku?

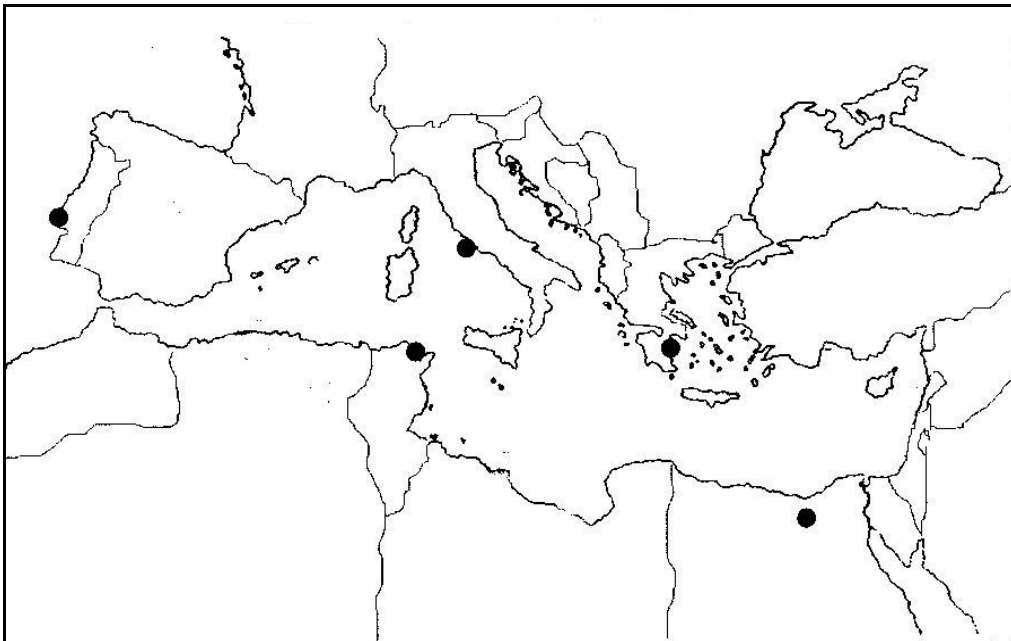
2. Liema hu l-pajjiż Afrikan li hu l-aktar viċin ta' Malta?

3. Liema hu l-pajjiż Ewropew li hu l-aktar viċin ta' Malta?

4. Liema pajjiż fil-Mediterran imiss mal-Baħar l-Aħmar?

5. Liema pajjiż fil-Mediterran għandu l-akbar numru ta' gzejjer żgħar?

(marka 1 x 5 = 5 marki)



b. Hares lejn il-Mappa tal-Mediterran.

Ħdejn it-tikek is-suwed ikteb l-isem tal-**BELT KAPITALI** tal-pajjiżi li semmejt fuq.

(marka 1 x 5 = 5 marki)

H. AQRA DAWN IS-SITWAZZJONIJIET. WIEĠEB IL-MISTOQSIJIET:

1. Dan l-aħħar, in-nanna ta' Marija kisret sieqha u mhix toħroġ għall-knisja u biex tixtri. Omm Marija għandha bżonn toħroġ taħdem kuljum għax żewġha spiċċa mingħajr xogħol. Il-familja ta' Marija ma tistax iggib in-nanna tgħix magħha, ukoll jekk tixtieq hafna.

X'jista' jsir biex in-nanna ta' Marija jkollha l-għajnuna li għandha bżonn?

(2 marki)

2. Hafna mit-tfal fil-klassi ta' Mark huma ta' twemmin Kattoliku. Imma hemm ukoll tnejn mill-Pakistan li huma Hindu u żewġ Palestinjani ta' religjon Islamika. It-tfal tal-klassi kollha jixtiequ li jibqgħu flimkien waqt il-lezzjoni tar-religjon.

X'tista' tagħmel l-għalliema biex tikkuntenta t-tfal tal-klassi?

(2 marki)

3. Ibrahim ġej minn familja Torka. Ilhom żmien joqoġħdu l-Ġermanja, imma dejjem bl-inkwiet. Missier Ibrahim, bħal hafna Torok oħra fil-Ġermanja, qiegħed isib problema kbira: kull darba jmur ifittex ix-xogħol u jibqa' ma jsibx.

Xi problema għandha l-familja ta' Ibrahim biex tgħix fil-Ġermanja?

(2 marki)

4. F'Settembru li għadda l-iskola fejn imorru Yasmin u Toni fakkru l-Ġurnata Ewropea tal-Lingwi. Billi f'din l-iskola hemm numru ta' tfal barranin ta' ġenituri refuġjati u oħrajn li jaħdmu Malta, l-għalliema organizzaw 'festa' tal-qari'. It-tfal qraw poeżiji bit-Taljan, bir-Russu, bil-Ġermaniż, bl-Għarbi u bil-Malti.

X'tgħallmu t-tfal ta' din l-iskola b'din iċ-ċelebrazzjoni?

(2 marki)

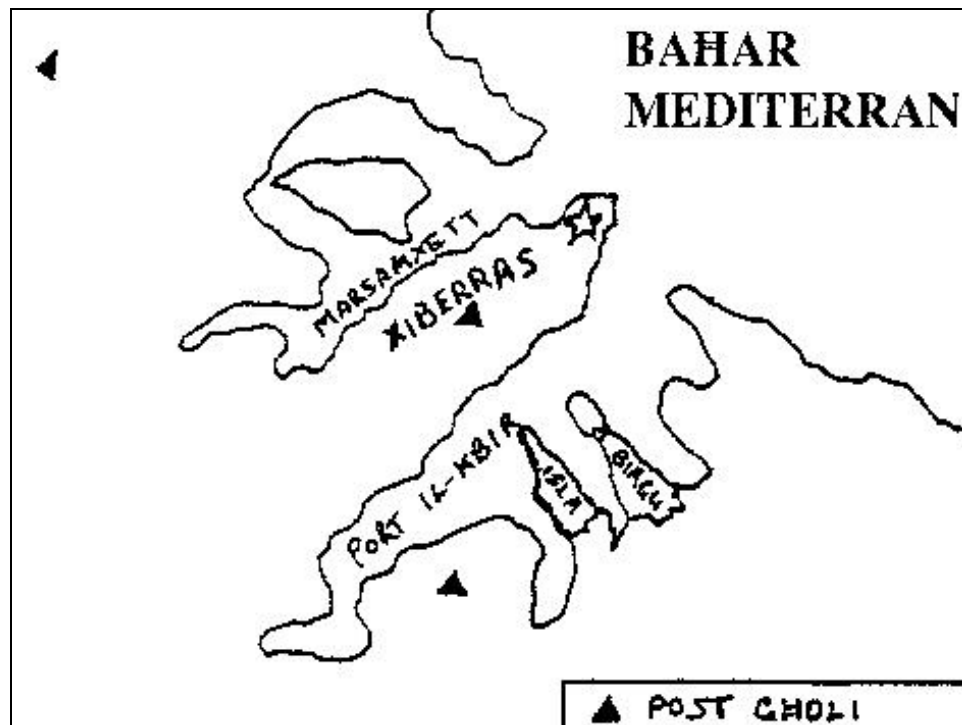
5. F'post f'Malta hemm għalqa abbandunata. X'uhud mir-residenti hađuha drawwa li jarmu l-iskart fiha, flok jiġbruh go borża u jistennew ta' l-iskart jiġi. It-tfal u l-għalliema ta' l-iskola ta' John jixtiequ jwaqqfu din id-drawwa, u ddecidew li jagħmlu xi haġa tajba biex jagħtu tagħlima lir-residenti.

X'jistgħu jagħmlu l-istudenti u l-għalliema ta' l-iskola ta' John?

(2 marki)

(2 marki x 5 = 10 marki)

H. a) HARES LEJN IL-MAPPA TAL-PORTIJET TA' MALTA FL-1565.



IKTEB:

1. **TLIET** raġunijiet ghalfejn il-kavallieri għażlu l-Gholja ta' Xiberras biex fuqha jibnu l-Belt Valletta.

_____ (3 marki)

2. Żvantagg **WIEHED** li kellha l-Belt Valletta.

_____ (marka 1)

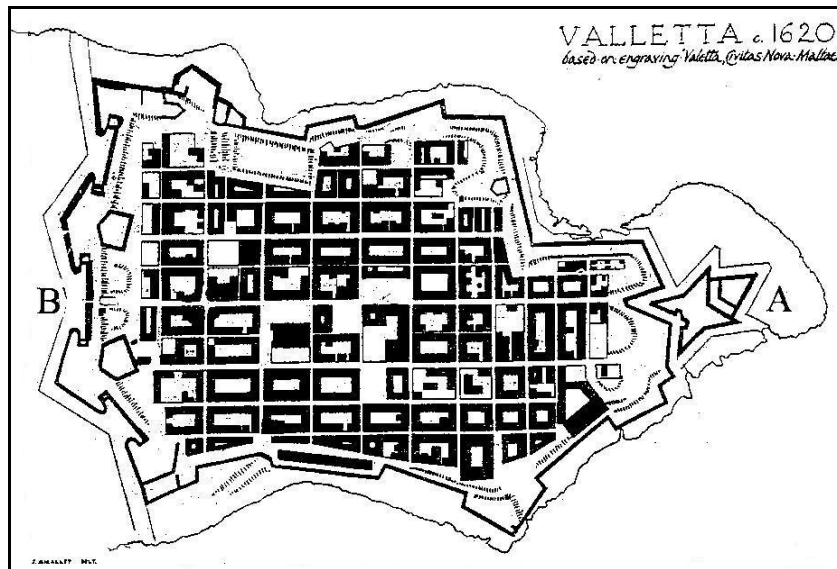
3. Il-post f' Malta fejn kienu joqogħdu l-Kavallieri sakemm nbniel il-Belt Valletta.

_____ (marka 1)

4. Il-Forti ewlenija li kienet tiddefendi, mill-qrib hafna, il-Birgu.

_____ (marka 1)

b) HARES LEJN IL-MAPPA TAL-BELT VALLETTA. WIEĠEB:



5. Għalfejn il-perit Laparelli ppjana toroq dritti għall-Belt Valletta?

_____ (marka 1)


6. Sib l-ittra A. X'kien dan il-bini u għaliex huwa famuż?

_____ (marka 1)

7. Sib l-ittra B. Għaliex taħseb li bnew l-aktar swar b'saħħithom f'din in-naħa?

_____ (marka 1)

ċ) HARES LEJN IL-FAĊĊATA TAL-PALAZZ TAL-GRAN MASTRI FIL-BELT. WIEĠEB:



8. Għaliex dan il-palazz ifakkarna fil-perit Ġlormu Cassar?

_____ (marka 1)

9. Semmi ŻEWĠ binjiet ohra li jfakkruna f'dan il-perit Malti.

_____ (2 marki)

(12-il marka b'kollox)

TMIEM IL-KARTA