

Eżami għad-Dhul
fl-Ewwel Sena tal - *Junior Lyceum*

2007

STUDJI SOĊJALI

A. Aghmel sing taht il-kelma / il-frazi t-tajba.

1. *Leader* tajjeb jaf (dejjem icedi mill-ewwel, imexxi l-grupp, jiggielied ma' ta' madwaru).
2. Biex tibni relazzjoni tajba mal-grupp trid (tordna lil kulhadd x'ghandu jaghmel, titghallem taçcetta l-opinjoni tal-membri tal-grupp, dejjem tghaddi tieghek).
3. L-individwi fis-soçjetà ghandhom (aktar minn rwol wiehed, rwol wiehed biss, ma jkollhom l-ebda rwol).
4. Kull çittadin li jaghlaq (sittax-il sena, sbatax-il sena, tmintax-il sena) ghandu dritt li jivvota f'elezzjoni generali.
5. Meta l-elezzjonijiet generali jsiru kull hames snin ic-çittadini Maltin ikunu qed jaghżlu (l-President, l-Parlament Malti, l-Kunsill Lokali).
6. F'pajjiż demokratiku l-poplu (jivvota ghad-deputati, ma jivvotax, ma jistax jaghti l-opinjoni tieghu).

(6 marki)

B. Qabbel il-lista A mal-lista B billi tikteb in-numru fil-kolonna tan-nofs. L-ewwel wahda hi mahduma bhala eżempju.

	Lista A		Lista B
1.	Kunsill lokali		Tempji ta' l-Imnajdra
2.	Il-familja		Jghinek billi taqşam l-ideat u l-opinjonijiet ma' haddiehor
3.	Grupp		Dritt għall-vot
4.	Demokrazija	1	Jigi elett kull tliet snin
5.	Simbolu nazzjonali		Il-baži li fuqha hi mibnija s-soçjetà
6.	Il-lingwa		Edukazzjoni, Saħħa
7.	Servizzi		Mezz ta' komunikazzjoni soçjali
8.	<i>L-Internet</i>		Joffru lill-poplu l-opportunità li jaghżel gvern biex imexxi lill-pajjiż
9.	Il-partiti politiçi		Mezz kif nikkomunikaw mal-kumplament tad-dinja

(8 marki)

Ċ. (i) Ikteb Veru jew Falz fejn kull sentenza.

1.	Issib hafna lukandi kbar f'Marsaxlokk.	
2.	L-aktar parti għolja tal-belt Victoria f'Għawdex hija ċ-Ċittadella.	
3.	Il-port ewlieni ta' Għawdex huwa Marsalforn.	
4.	L-ajruport internazzjonali ta' Malta jinsab il-Gudja.	
5.	Issib hafna fdalijiet storici bħad-Dar Rumana u l-Katakombi fir-Rabat, Malta.	
6.	Il-Parlament jiltaqa' fil-belt Valletta, il-belt kapitali ta' Malta.	

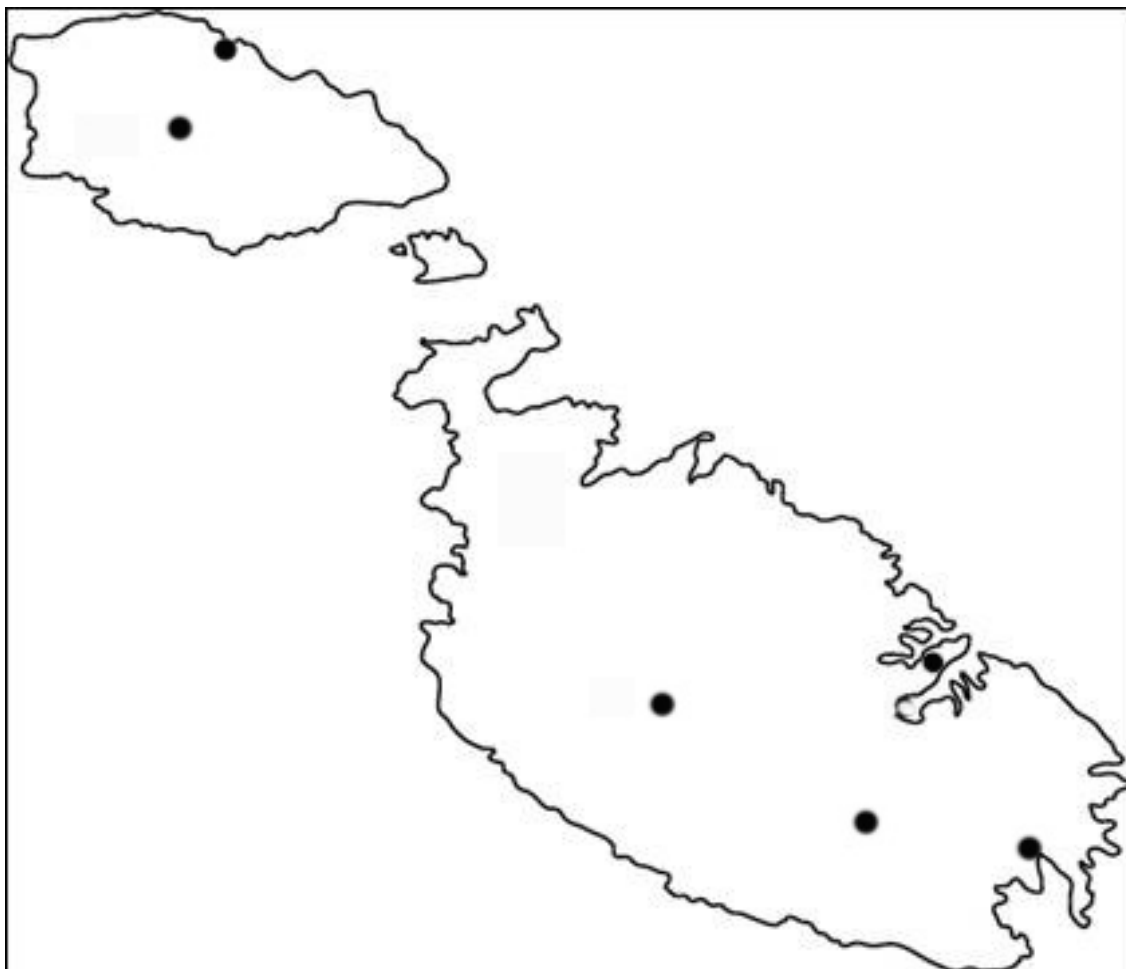
(6 marki)

(ii) L-ibliet u l-irhula li jissemmew f'Eżerċizzju Ċ (i) huma mmarkati b'tikek suwed fuq il-mappa ta' Malta.

(1. Marsaxlokk; 2. Victoria; 3. Marsalforn; 4. Gudja; 5. Rabat, Malta; 6. Valletta)

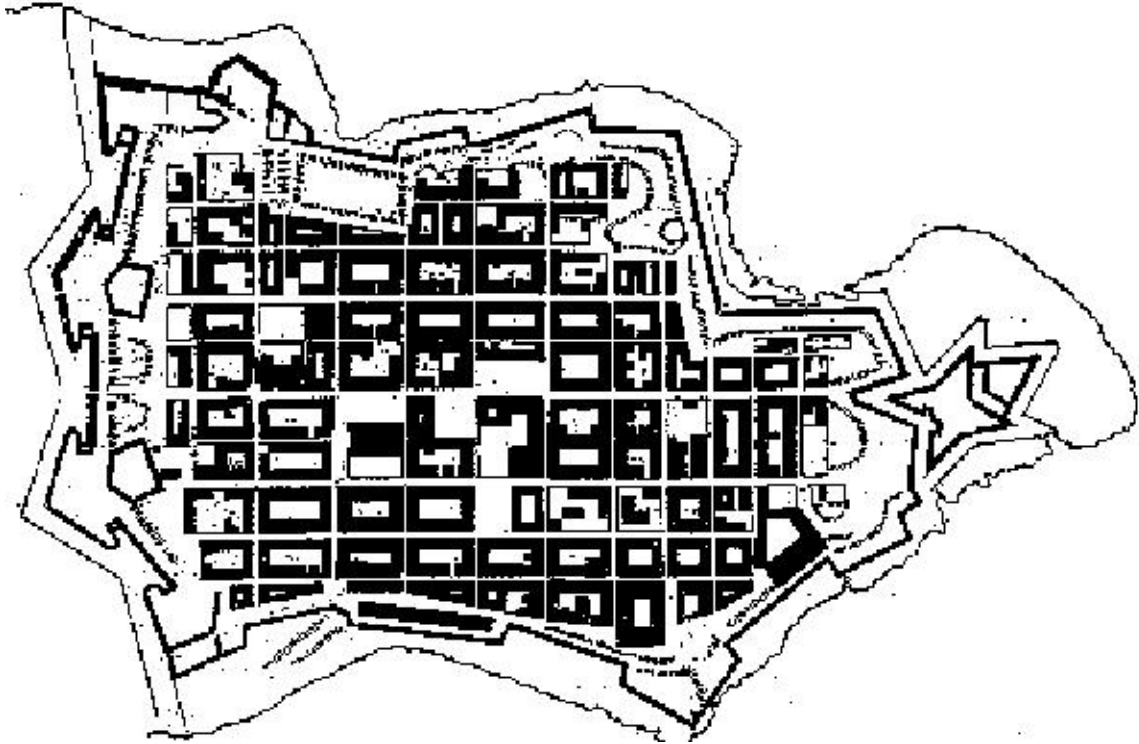
Ikteb fuq il-Mappa ta' Malta l-isem jew in-numru tagħhom biex turi li taf fejn jinsabu.

(6 marki)



(Total: 12-il marka)

D.



Din hija l-pjanta qadima tal-belt kapitali ta' Malta. Qabbel il-kelma fil-kolonna A billi tiktib in-numru tagħha hdejn it-tagħrif it-tajjeb f'kolonna B.

	Kolonna A		Kolonna B (Tagħrif)
1.	Valletta		Perit Malti li pinga l-pjanti ta' hafna bini importanti fil-belt kapitali
2.	Jean de la Valette		L-isptar ta' l-Ordni ta' San Ġwann
3.	Francesco Laparelli		Il-Papa li bagħat lil Laparelli
4.	Ġormu Cassar		L-gholja li fuqha nbriet il-belt
5.	28 ta' Marzu 1566		Il-belt kapitali ta' Malta mibnija mill-Kavallieri ta' San Ġwann
6.	Piju V		Palazz li fih kienu joqogħdu l-kavallieri
7.	Xiberras		Fi żmienu l-Ordni halliet il-Birgu u marret fil-bereg godda ta' din il-belt
8.	Sagra Infermerija		Il-jum li fih tqieghdet l-ewwel gebla tal-belt
9.	Berga		Il-perit li pinga l-pjanti tal-belt kapitali
10.	Il-Gran Mastru Del Monte		Il-Gran Mastru li fi żmienu nbriet din il-belt

(10 marki)

E. (i) Semmi:

a. Żewġ pajjizi tal-Mediterran li jagħmlu parti mill-kontinent Afrikan

1. _____ 2. _____

b. Żewġ pajjizi tal-Mediterran li jagħmlu parti mill-kontinent Ewropew

3. _____ 4. _____

ċ. Żewġ gzejjer, barra dawk Maltin, li jinsabu fil-Baħar Mediterran

5. _____ 6. _____

(6 marki)

(ii) Immarka l-ismijiet jew in-numri tal-pajjizi u l-gzejjer li inti ktibt f'eżercizzju E (i) fuq il-mappa tal-Mediterran biex turi fejn jinsabu.



(6 marki)

(Total: 12-il marka)

F. Wieġeb dawn il-mistoqsijiet.

1. Min hu l-qaddis li dahhal it-twemmin nistrani f'Malta? _____
2. X'wassal lil dan il-qaddis biex jiġi Malta?

3. Fl-inhawli ta' fejn wasal f'pajjiżna? _____
4. B'tifkira ta' dan il-qaddis hemm knisja li tissejjah tal-Ħuġġieġa. Għaliex taħseb li ngħatat dan l-isem? _____

5. X'qalu n-nies tal-gżira fuq dan il-bniedem? _____

6. Xi kemm dam dan il-qaddis hawn Malta? _____
7. Kien San Luqa li kiteb fid-dettall fuq din il-grajja fl-Atti ta' l-Appostli. Għaliex taħseb li hu seta' jagħmel dan? _____
8. Min kienu l-ħakkiema tal-Palestina u ta' Malta f'dak iż-żmien? _____

(8 marki)

Ġ. Wieġeb dawn il-mistoqsijiet.

1. Fl-istampa hemm ġuvni u mogħża.

- a. Fejn jinsab dak il-ġuvni? _____
- b. X'taħseb li se jagħmel il-ġuvni? _____

- ċ. Agħti **l-isem** ta' xi post bħal dan. _____



2. It-Tieni Gwerra Dinjija

- a. Għaliex taħseb li ajruplani Taljani u Ġermaniżi attakkaw lil Malta f'dak iż-żmien?

- b. Semmi xi ħsara li Malta sofriet f'dan iż-żmien.

- ċ. Għaliex Malta ngħatat il-George Cross?

- d. Għaliex kienet importanti l-wasla tal-konvoj ta' Santa Marija f'Malta?

3. Il-Jiem Nazzjonali

a. Liema Jum Nazzjonali jfakkarna f' meta l-Maltin irvellow kontra l-Ingliżi?

b. Liema hu l-jum nazzjonali li jfakkarna meta għall-ewwel darba kellna president?

c. Liemu hu l-jum nazzjonali li jfakkarna fir-rebħiet ta' l-Assedju l-Kbir u tat-Tieni Gwerra Dinjija?

(10 marki)

G. Aqra dawn is-sitwazzjonijiet u wieġeb il-mistoqsijiet billi tagħti l-opinjoni tiegħek. Aġti mill-anqas żewġ ideat għal kull sitwazzjoni.

1. Fl-iskola tar-raħal tiegħek hemm tfal minn pajjiżi differenti li jattendu l-iskola. Fil-klassi tiegħek hemm żewġt aħwa minn pajjiż barrani. X'tista' tagħmel biex tibni relazzjoni tajba magħhom?

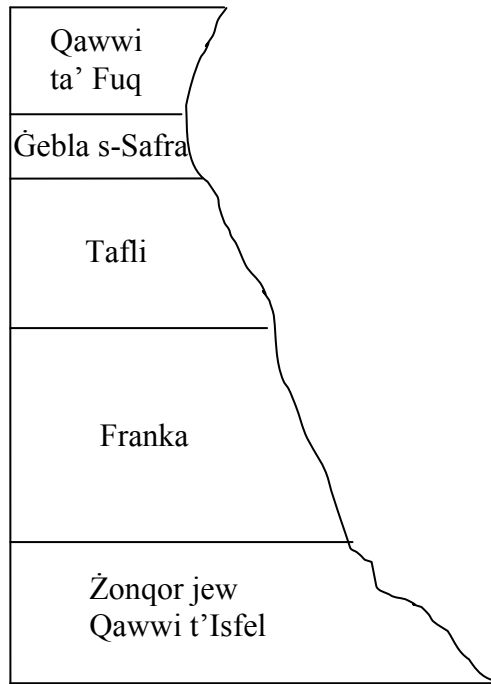
2. L-istudenti fil-klassi tqassmu fi gruppi biex jaħdmu fuq proġetti differenti. X'taħseb li tghallmu meta hadmu fi grupp?

3. Qed toqrob l-elezzjoni għall-kunsilli lokali. Missierek iddeċieda li johroġ għall-elezzjoni. X'jista' jagħmel biex jikkomunika aħjar man-nies?

(2 x 3 = 6 marki)

GH. Hares sewwa lejn it-tpingija tal-hames saffi ewlenin tal-blat f'Malta. Wieġeb dawn il-mistoqsijiet dwarhom.

**IS-SAFFI
TAL-BLAT
TA' MALTA**



1. Liema hu l-ewwel saff ta' blat ta' pajjizna li ssawwar?

2. Għaliex il-franka hija tajba biex tinqata' forma ta' knaten biex nibnu biha ?

3. Fl-imġhoddi kienu jsiru borom, platti u katusi mill-fuħħar. Mil-liema saff tal-blat kien jingiebb dan il-fuħħar?

4. Liema blat jitfarrak fi żrar u ramel biex jithallat għall-konkos ?

5. Fejn ifforma l-blat ta' Malta ?

6. Għaliex il-blat ta' Malta jissejjah blat Sedimentarju?

(6 marki)

H. Aqra din is-silta u wieġeb il-mistoqsijiet kollha.

L-educazzjoni f' Malta tingħata importanza kbira mill-pajjiż. Il-familji Maltin għandhom għal qalbhom l-educazzjoni sabiex uliedhom ikollhom futur sabiħ. Fl-iskola l-istudenti jsibu ħafna nies lesti li jagħtuhom l-għajnuna meħtieġa biex ikunu jistgħu jitgħallmu aħjar. L-isport huwa wieħed mill-attivitajiet li l-istudenti jieħdu pjaċir jagħmlu. Nafu li l-isport jgħinna ħafna fil-ħajja tagħna.

1. Agħti **tliet** raġunijiet għaliex l-isport huwa importanti .

- a. _____
- b. _____
- ċ. _____

(3)

2. Meta l-istudenti jkollhom xi diffikultà biex jitgħallmu, min jista' jgħin视角om fl-iskola?

(1)

3. Fejn imorru l-istudenti wara li jispicċaw l-iskola primarja?

(1)

4. Agħzel it-tajba billi tagħmel sing taħtha.

L-età obbligatorja ta' l-iskola hi sa (14-il sena, 16-il sena, 18-il sena)

(1)

5. Ikteb **erba'** sentenzi biex tfisser għaliex illum huwa importanti li ż-żgħażaġh ikomplu l-educazzjoni tagħhom wara l-età obbligatorja. Kull sentenza jrid ikollha hsieb differenti.

(4)

(Total: 10 marki)

H. Ikteb żewg sentenzi dwar kull wahda minn dawn.

1. Il-bejgħ tal-prodotti agrikoli

2. Il-Materja Prima li jkollhom bżonn il-fabbriki

3. Il-‘Bring-in-Sites’ fil-lokalitajiet fejn ngħixu

(2 x 3 = 6 marki)

I. Immaġina... u ikteb.

Immaġina li inti kont tifel jew tifla tgħix fil-Birgu fi żmien l-Assedju l-Kbir ta' l-1565. Ikteb **sitt** sentenzi biex bihom turi x'rajt u x'ħassejt minn meta waqa' l-Forti Sant'Iermu f'idejn it-Torok sa tmiem l-Assedju.

(6 marki)

Tmiem il-Karta