



Ċ 5.3 NILAGĦBU

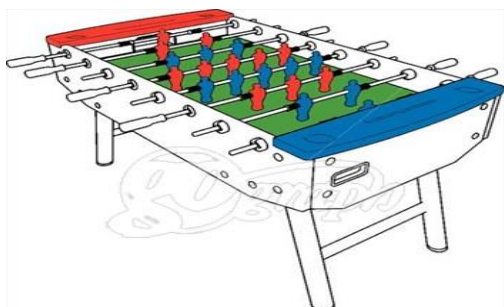


Ċ5.3.1.


Nidentifikaw il-logħob ta' barra u l-logħob ta' gewwa li jhobbu jilagħbu l-istudenti tagħna.

A. Ikteb l-isem tal-logħba fil-vojt ipprovdut.





B. Ikteb l-isem tal-logħba fil-vojt ipprovdut.



Ċ. Wiegeb billi taqta' sing jew timla l-vojt.

1. Il-logħob kollu ta' eżercizzju A huwa logħob ta' (barra, ġewwa).
2. Il-logħob kollu ta' eżercizzju B huwa logħob ta' (barra, ġewwa).
3. Liema logħba tħobb l-iktar mil-logħob ta' ġewwa?

a) il-logħba li tħobb:

b) Għaliex għażilt lilha?

ċ) Fejn tilgħabha l-iktar?

4. Liema logħba/sport tħobb l-iktar mil-logħob ta' barra?

a) il-logħba/sport li tħobb

b) Għaliex għażilt dik lil-logħba/sport:

ċ) Fejn tipprattika dik il-logħba/sport l-iktar?

5. Semmi vantaġġ li għandu l-logħob ta' ġewwa:

6. Semmi vantaġġ li għandu l-logħob ta' barra:

