

PRIMARY SCHOOLS ANNUAL EXAMINATIONS 2001

Education Assessment Unit – Education Division

IS-SITT SENA

STUDJI SOĊJALI

HIN: SIEGHA

Isem: _____

Klassi _____

A. Aqta' sing taht il-kelma t-tajba.

1. Il-vapur bejn Malta u Ghawdex jaħdem l-aktar bejn l-Imgarr u (il-Birgu, il-Mellieħa, M`Xlokk, iċ-Ċirkewwa).
2. L-ewwel edukazzjoni noħduha (mill-iskola, mis-safar, mid-dar, mill-università).
3. Meta nissoċjalizzaw nitgħallmu kif (niġġieldu, nghixu, nitolbu, naghjtu) man-nies.
4. Il-kelma 'arċipelagu' tfisser grupp ta' (pajjiżi, gzejjer, bliet, irħula).
5. (Iż-żrar, il-fuħħar, il-ħgieg, il-ħadid, l-injam) isir mill-Qawwi ta' Taħt.
6. Il-bini ta'(skejjel, baċiri, portijet, imqades) juri kemm l-ewwel nies f`Malta kienu jħobbu r-religjon.
7. L-ewwel nies f`Malta kellhom il-vantaġġ ta' (kura, ikla, klima, skola) tajba.
8. It-Torok riedu jattakkaw lil Malta minħabba (il-pożizzjoni, id-dawl, il-kobor, iċ-ċokon) tal-gżira.
9. F`Bulebel u l-Imriehel insibu (oqsma industrijali, baċiri, ajruporti, sptarijiet).
10. Haġar Qim jinsab ħdejn it-tempju ta' (l-Imnajdra, Ġgantija, Hal Saflieni, Tas-Silg)

(10 marki)

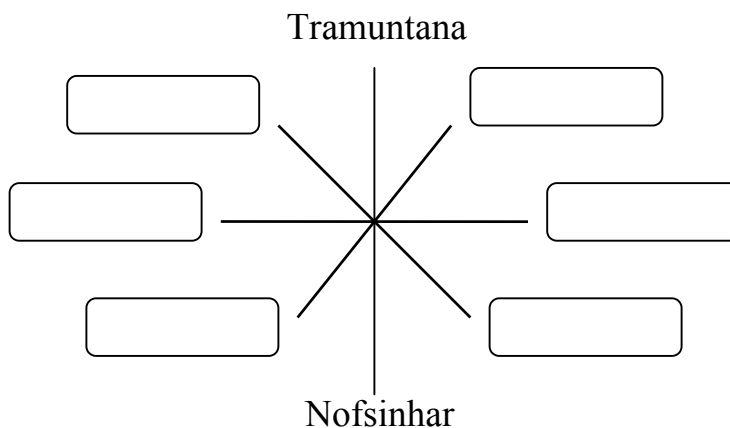
B. Qabbel kolonna 'A' ma' kolonna 'B' billi tpoġġi numru fiċ-ċrieki.

- | A | B |
|---|---|
| 1. L-ewwel nies f`Malta | <input type="radio"/> flok il-palazz ta' Publiju. |
| 2. Il-katidral ta' l-Imdina nbena | <input type="radio"/> kien hemm fdalijiet ta' l-ijunfanti. |
| 3. Il-bastimenti tat-Torok tefgħu l-ankri | <input type="radio"/> fuq il-Belt il-ġdida, Valletta. |
| 4. F' Għar Dalam | <input type="radio"/> tempju taħt l-art. |
| 5. Waqt l-Assedju l-Kbir, Malta serviet bhala tarka | <input type="radio"/> kellhom għodda tal-ġebel. |
| 6. Ix-xini ta' San Pawl tfarrak | <input type="radio"/> tar-religjon nisranija. |
| 7. Ġlormu Cassar komplax-xogħol | <input type="radio"/> fil-Port ta' Marsaxlokk. |
| 8. Dragut miet | <input type="radio"/> l-isptar ta' l-Ordni. |
| 9. Is-Sagra Infermerija kienet | <input type="radio"/> waqt l-attakk fuq Sant' Iermu. |
| 10. Il-kelma 'Ipoġew' tfisser | <input type="radio"/> fil-Ponta ta' Tassu, li tfisser Tarsu |

(10 marki)

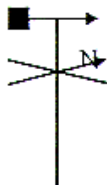
Ċ. Imla bil-kliem mogħti.

1. Grigal, Punent, Lbiċ Lvant, Xlokk, Majjistral.



(6 marki)

2. anemometru, rain gauge, termometru, pinnur.



(4 marki)

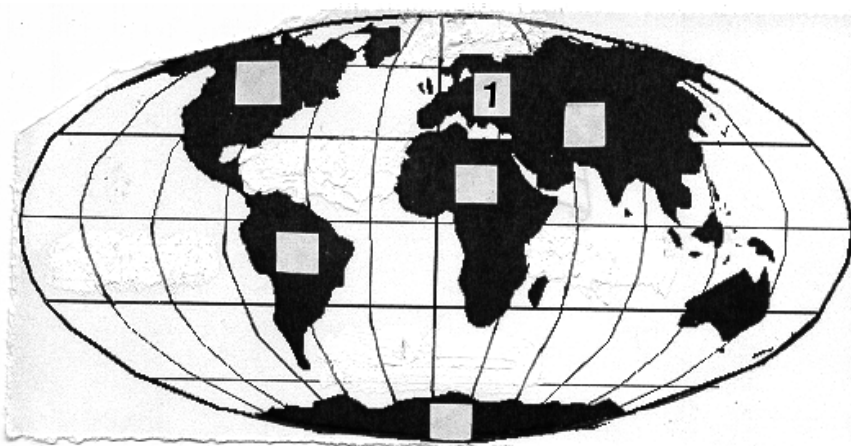
D. **Imla l-vojt b'dan il-kliem:** opinjoni, awtorità, ġenituri, edukat, rispettt, dixxiplina, dmirijiet, storbu, difetti, niggieldu.



1. Bniedem _____ juża manjieri tajba ma` kulhadd.
2. Aħna ulied, għalhekk għandna drittijiet u _____ ukoll.
3. Il-membri tal-familja għandhom juru _____ lejn xulxin.
4. Il-ġenituri huma l- _____ li tmexxi l-familja.
5. Meta ma naqblux, tajjeb li nitkellmu bejnietna flok _____.
6. Kulhadd hu differenti, għalhekk għandna naċċettaw id- _____ ta' xulxin.
7. Hi haġa tajba li t-tfal juru l- _____ tagħhom fl-affarijiet tal-familja.
8. Mhux sewwa li nagħmlu _____ waqt il-hin tal-mistrieħ.
9. Il- _____ m`humiex ilsira tagħna; kulhadd għandu joffri l-ghajnuna tiegħu fid-dar.
10. Huwa importanti li fil-familja jkun hemm d- _____ u l-kontroll.

(10 marki)

E. 1. Hares lejn il-mappa.

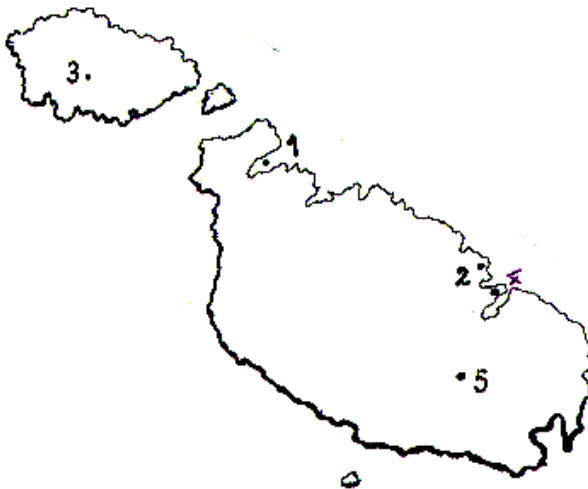


Dawn huma kontinenti. Pogġi n-numru ta' kull kontinent fuq il-mappa.
(L-ewwel wieħed lest).

- 1 Ewropa 2 Asja 6 Amerika ta' Isfel
4 Amerika ta' Fuq 5 Antartika 3 Afrika

(5 marki)

2. Ara din il-mappa sew. Wara iktib in-numri (biss) fis-sentenzi ta' taht
biex turi fejn jinsabu dawn il-postijiet.



- a) Post f`Għawdex fejn jitkabbbru hafna prodotti tal-biedja. _____
b) Bajja popolari mal-Maltin u l-barranin. _____
c) L-ajruport internazzjonali ta' Malta. _____
d) Ċentru turistiku. _____
e) Il-Forti Sant Iermu. _____

(5 marki)

F. Aqra sew dawn iż-żewġ siltiet. Wara ikteb hames sentenzi fuq kull silta.

1. Din is-sena fil-klassi ta' Rita u Bertu hemm tifla jisimha Marija. Marija għandha bżonnijiet speċjali. Iż-żewġ itfal jixtiequ jgħinu lil Marija. Huma tkellmu flimkien biex jaħsbu x' għandhom jagħmlu.

Ikteb x' taħseb li qalu Rita u Bertu fuq kif ser jgħinu lil Marija.

(5 marki)

2. Toni qal, “ Superman l-aħjar għax m' għandux problemi ta' trasport. ”
Marija wiegbet, “ Veru. Jien kull fejn immur bil-mixi. ”

It-trasport inbidel ħafna u mhux bħal ma kien żmien ilu.

Għid kif kien it-trasport żmien ilu u kif sar illum. Għid ukoll kif aħna nużaw il-mezzi tat-trasport illum.

(5 marki)

Ġ. Imla l-vojt bi kliem li jagħmel sens. L-ewwel ittra ta' kull kelma lesta.

Wara l-A _____ l-Kbir il-kavallieri riedu jibnu belt ġdida. Il-Papa Piju V bagħat lill-perit tiegħu Francesco L _____ biex ifassal il-pjanta tal-Belt. Il-belt kien ser ikollha s _____ madwarha biex jiddefenduha mill-attakki ta' l-ghadu. Saru liġijiet importanti fosthom li f'kull dar ried ikun hemm b _____ għall-ħażna ta' l-ilma u t-toroq kellhom ikunu d _____. Il-B _____ kienu bini importanti f' din il-belt. Fihom kienu joqogħdu l-kavallieri ta' ilsna differenti. Il-K _____ inbena biex ikun il-knijsja ta' l-Ordni. Fl-1571 il-kavallieri telqu mill-B _____ biex imorru joqogħdu fil-Belt il-ġdida. Din il-Belt issemmiet għall-G _____ M _____ La Vallette.

(10 marki)

G. Imla b'kelma wahda:

1. Tempju Megalitiku f`Għawdex:
2. Il-Belt kapitali tal-Greċja:
3. Forom ta' annimali li ntradmu fil-hama, ramel u naqal:

4. Hawnhekk hawn il-Qasam Industrijali t`Ghawdex:
5. L-iskola fejn imorru t-tfal bejn il-5 u l-10 snin:
6. Kiteb l-istorja ta' meta San Pawl gie Malta:
7. L-isem ta' l-għolja li fuqha nbriet il-Belt il-ġdida:
8. Port imħares mit-tliet fortizzi ta' l-Ordni:
9. Isem ieħor għat-tempju ta' Astarte f`Marsaxlokk:
10. Post minn fejn San Pawl hareġ l-ilma biex jgħammed l-ewwel insara Maltin:

(10 marki)

Għ. Aqta' sinjal taht 2 (żewġ) twegibiet tajbin.

1. Meta jkun hemm hafna traffiku ikun hemm:
(tniġġis, xogħol, hsejjes żejda, kwiet)
2. Dawn huma żewġ fdalijiet preistoriċi li nstabu:
(palazzi, dolmen, gherien, skejjel, menħir)
3. Żewġ gzejjer li jagħmlu ma' l-Italja:
(Ċipru, Kreta, Sardinja, Sqallija, Korsika, Gzejjer Baleariċi)
4. (L-imġiba, il-wiċċ, il-mixja, id-dehra, is-sbuħija)
jiffurmaw il-karattru tagħna.
5. Parlament hu magħmul mill- :
(Qorti, President, Gvern, Oppożizzjoni, Kandidati)

(10 marki)

